



آزمون ۱۸ آبان ۱۴۰۳

اختصاصی دوازدهم ریاضی

دفترچه پاسخ

نام طراحان	نام درس	اختصاصی
کاظم اجلالی-سیدرضا اسلامی-داود بوالحسنی-سهیل تقی زاده-رضا جعفری-افشین خاصه خان-احمدرضا ذاکر زاده محمد رضا راسخ-ستار زواری-مهسان گودرزی-حامد معنوی-جهانبخش نیکنام	حسابان ۲	
امیر حسین ابومحبوب-اسحاق اسفندیار-فاطمه برزویی-سیدمحمد رضا حسینی فرد-فرزانه خاکپاش-سوگند روشنی-هومن عقیلی احمدرضا فلاح-مهرداد ملوندی-نیما مهندس	هندسه	
امیر حسین ابومحبوب-سیدمحمد رضا حسینی فرد-افشین خاصه خان-سوگند روشنی-علیرضا شریف خطیبی-احمدرضا فلاح	ریاضیات گسسته	
مهران اسماعیلی-حسین الهی-بهزاد آزادفر-زهره آقامحمدی-علی برزگر-علیرضا جباری-مسعود خندانی-پوریا علاقه مند سیاوش فارسی-محمد مقدم-محمد کاظم منشادی-سیدمحمد علی موسوی-امیراحمد میرسعید-حسام نادری-مجتبی نکوئیان	فیزیک	
هدی بهاری پور-امیر علی بیات-محمد رضا پورجاوید-سعید تیزرو-محمد رضا جمشیدی-امیرحاتمیان-حمید ذبحی-یاسر راش روزبه رضوانی-محمد رضا طاهری نژاد-امیرحسین طیبی-محمد عظیمیان زواره-آرمان قنواتی-امیرمحمد کنگرانی-محسن مجنونی فرشید مرادی	شیمی	

گزینشگران و ویراستاران

نام درس	حسابان ۲	هندسه	ریاضیات گسسته	فیزیک	شیمی
گزینشگر	سیدرضا اسلامی	امیرحسین ابومحبوب	امیرحسین ابومحبوب	حسام نادری	ایمان حسین نژاد
گروه ویراستاری	امیرحسین ابومحبوب سهیل تقی زاده	امیرحسین ابومحبوب مهید خالقی امیرمحمد کریمی محمد خندان	امیرحسین ابومحبوب مهید خالقی امیرمحمد کریمی محمد خندان	بهنام شاهی زهره آقامحمدی	محمدحسن محمدزاده مقدم احسان پنجه شاهی امیرحسین کمره ای
ویراستاری رتبه های برتر	امیرحسین ملازینل سپهر متولیان سیدماهد عیدی کوهی محمدپارسا سبزمای	امیرحسین ملازینل سپهر متولیان امیرحسین ربیعیان	امیرحسین ملازینل سپهر متولیان امیرحسین ربیعیان	سینا صالحی ماهان فرمندفر	آرمان قنواتی امیرحسین ملازینل
بازنویسی آزمون	سهیل تقی زاده	امیرحسین ملازینل	امیرحسین ملازینل	سینا صالحی	آرمان قنواتی
مسئول درس	مهرداد ملوندی	سرژ یقیازاریان تبریزی	سرژ یقیازاریان تبریزی	حسام نادری	امیرعلی بیات
مستندسازی	سمیه اسکندری	عادل حسینی	الهه شهبازی	علیرضا همایون خواه	امیرحسین توحیدی
ویراستاران (مستندسازی)	احسان صادقی-سجاد سلیمی-علیرضا عباسی زاهد				
	مهدی گنجی وطن سیدکیان ملکی ابراهیم نوری				
	سجاد رضایی محمدصدرا وطنی ملینا ملانی				

گروه فنی و تولید

مدیر گروه	مهرداد ملوندی
مسئول دفترچه	نرگس غنی زاده
گروه مستندسازی	مدیر گروه: محیا اصغری مسئول دفترچه: الهه شهبازی
حروف نگار	فرزانه فتح اله زاده
ناظر چاپ	سوران نعیمی

گروه آزمون

بنیاد علمی آموزشی قلمچی (وقف عام)

دفتر مرکزی: خیابان انقلاب بین صبا و فلسطین - پلاک ۹۲۳ - کانون فرهنگی آموزش - تلفن: ۰۲۱-۶۴۴۳



حسابان ۲

گزینه ۱

(سویل تقی زاده)

با توجه به قضیه تقسیم داریم:

$$f(x) = p(x)q(x) + r(x) \Rightarrow f(x) = (x-1)q(x) + \delta \quad (1)$$

طبق فرض سؤال خارج قسمت تقسیم، بر $x+2$ بخش پذیر است، بنابراین:

$$q(-2) = 0 \quad (2)$$

$$\left. \begin{aligned} (1), (2): f(-2) = \delta &\Rightarrow -8 + 4a - 2b - 1 = \delta \\ \Rightarrow 2a - b &= 7 \\ (1): f(1) = \delta &\Rightarrow 1 + a + b - 1 = \delta \Rightarrow a + b = \delta \end{aligned} \right\} \Rightarrow a = 4, b = 1$$

$$f\left(\frac{ab}{2}\right) = f\left(\frac{4 \times 1}{2}\right) = f(2) = 8 + 16 + 2 - 1 = 25$$

(حسابان ۲- تابع: صفحه‌های ۱۸ تا ۲۲)

گزینه ۳

(داوود بوالمنینی)

ابتدا قضیه تقسیم را می‌نویسیم:

$$f(1-x) = (x-2)Q(x) + R \xrightarrow{x=2} f(-1) = R$$

حال طبق فرض داریم:

$$f(x) = \frac{x^{16} - 1}{2(x+1)}, \quad (x \neq -1)$$

چون f یک چندجمله‌ای است، پس در تمام نقاط (حتی $x = -1$ که ریشه مخرج است) پیوسته است، یعنی:

$$\begin{aligned} f(-1) &= \lim_{x \rightarrow -1} f(x) = \lim_{x \rightarrow -1} \frac{x^{16} - 1}{2(x+1)} \\ &= \lim_{x \rightarrow -1} \frac{(x+1)(x^{15} - x^{14} + x^{13} - \dots - 1)}{2(x+1)} \\ &= \frac{1}{2}(-1 - 1 - 1 - \dots - 1) = \frac{1}{2}(-16) = -8 \Rightarrow R = -8 \end{aligned}$$

(حسابان ۲- تابع: صفحه‌های ۱۸ تا ۲۲)

گزینه ۱

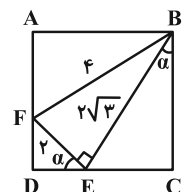
(مهمدرسا، اسخ)

با توجه به این که $\triangle BEF$ قائم‌الزاویه است، داریم:

$$BE^2 + EF^2 = BF^2 \Rightarrow BE^2 + 2^2 = 4^2 \Rightarrow BE = 2\sqrt{3}$$

حال با توجه به شکل زیر داریم:

$$\begin{cases} BC = 2\sqrt{3} \cos \alpha \\ CE = 2\sqrt{3} \sin \alpha \\ DE = 2 \cos \alpha \end{cases} \rightarrow BC = CE + DE$$



$$2\sqrt{3} \cos \alpha = 2\sqrt{3} \sin \alpha + 2 \cos \alpha$$

$$\Rightarrow (2\sqrt{3} - 2) \cos \alpha = 2\sqrt{3} \sin \alpha$$

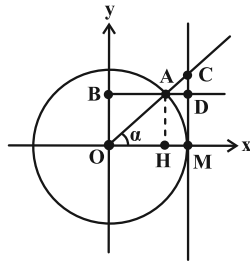
$$\Rightarrow \cot \alpha = \frac{2\sqrt{3}}{2\sqrt{3} - 2} = \frac{\sqrt{3}}{\sqrt{3} - 1} \times \frac{\sqrt{3} + 1}{\sqrt{3} + 1} = \frac{3 + \sqrt{3}}{2}$$

(ریاضی ۱- مثلثات: صفحه‌های ۳۰ تا ۳۲)

گزینه ۲

(غامر معنوی)

ابتدا طول OH را به دست می‌آوریم:



$$\left. \begin{aligned} OH = AB \\ HM = AD \end{aligned} \right\} \xrightarrow{AB=2AD} OH = 2HM \quad (1)$$

$$OM = OH + HM = 1 \xrightarrow{(1)} OH + \frac{OH}{2} = 1$$

$$\Rightarrow OH = \frac{2}{3}$$

از طرفی می‌دانیم $OH = \cos \alpha$ و $CD = \tan \alpha - \sin \alpha$ ، بنابراین:

$$\sin^2 \alpha = 1 - \cos^2 \alpha \xrightarrow{\begin{matrix} 0 < \alpha < \frac{\pi}{2} \\ \cos \alpha = \frac{2}{3} \end{matrix}} \sin \alpha = \sqrt{1 - \left(\frac{2}{3}\right)^2} = \frac{\sqrt{5}}{3}$$

$$\tan \alpha = \frac{\sin \alpha}{\cos \alpha} = \frac{\frac{\sqrt{5}}{3}}{\frac{2}{3}} = \frac{\sqrt{5}}{2}$$

$$CD = \tan \alpha - \sin \alpha = \frac{\sqrt{5}}{2} - \frac{\sqrt{5}}{3} = \frac{\sqrt{5}}{6}$$

(ریاضی ۱- مثلثات: صفحه‌های ۳۶ تا ۳۹)

(حسابان ۲- مثلثات: صفحه ۲۹)

گزینه ۴

(سیدرضا اسلامی)

ابتدا زاویه‌ای که چرخ عقب (B) می‌چرخد را محاسبه می‌کنیم:

$$L = R\alpha \Rightarrow 94/2 = 35 \times \alpha \Rightarrow \alpha = \frac{94/2}{35} \text{ rad}$$

از آنجا که چرخ عقب (B) و چرخ دنده متصل به آن (D) دو دایره

هم‌مرکز هستند، چرخ دنده D نیز $\frac{94/2}{35} \text{ rad}$ می‌چرخد. همچنین دو

چرخ دنده C و D به وسیله زنجیر چرخ به هم متصل بوده و مسافت یکسانی از زنجیر چرخ را می‌پیمایند:

$$R_1 \theta_1 = R_2 \theta_2 \Rightarrow 10 \times \frac{94/2}{35} = 15 \times \theta_2$$

$$\Rightarrow \theta_2 = \frac{10 \times 94/2}{15 \times 35} = \frac{3/14 \times 300}{7} = \frac{4\pi}{7} \text{ rad}$$

توجه: شعاع چرخ جلو در محاسبات تأثیری ندارد و عملاً داده اضافی به حساب می‌آید.

(حسابان ۱- مثلثات: صفحه‌های ۹۲ تا ۹۷)

گزینه ۴

(سیدرضا اسلامی)

طرفین رابطه را بر $\cos^3 x$ تقسیم می‌کنیم:

$$\delta \tan^3 x + 3 \frac{1}{\cos^3 x} = \delta + \delta \tan x \times \frac{1}{\cos^3 x}$$

$$\Rightarrow \delta \tan^3 x + 3(1 + \tan^2 x) = \delta + \delta \tan x (1 + \tan^2 x)$$



از طرفی با توجه به این که $f(\frac{25\pi}{24}) = 0$ می‌نویسیم:

$$f(\frac{25\pi}{24}) = -2 \cos(2 \times \frac{25\pi}{24} - \frac{\pi}{4}) + c = 0$$

$$\Rightarrow -2 \cos(\frac{5\pi}{3}) + c = 0 \Rightarrow -2 \cos(2\pi + \frac{2\pi}{3}) + c = 0$$

$$\Rightarrow -2(-\frac{1}{2}) + c = 0 \Rightarrow c = -1 \Rightarrow c - b = -1 - 2 = -3$$

(مسئله ۲- مثلثات: صفحه‌های ۲۴ تا ۲۹)

(رضا جعفری)

۹- گزینه «۱»

از آنجایی که $0 < c < \frac{\pi}{2}$ است، تابع $y = \sin(x+c)$ در همسایگی

$x=0$ صعودی است و چون طبق نمودار صورت سؤال، تابع $f(x) = a \sin(bx+c)$ در همسایگی $x=0$ نزولی است، پس:

$$ab < 0 \xrightarrow{b>0} a < 0 \quad (1)$$

$$y_{\max} = |a| = \frac{1}{3} \xrightarrow{(1)} a = -\frac{1}{3}$$

$$2 - \frac{5}{4} = \frac{3}{4} = \frac{T}{4} \Rightarrow T = 3 = \frac{2\pi}{|b|}$$

$$\Rightarrow |b| = \frac{2\pi}{3} \xrightarrow{b>0} b = \frac{2\pi}{3}$$

همچنین با توجه به نمودار داریم:

$$f(\frac{5}{4}) = 0 \Rightarrow -\frac{1}{3} \sin(\frac{2\pi}{3} \times \frac{5}{4} + c) = 0$$

$$\Rightarrow \sin(\frac{5\pi}{6} + c) = 0 \xrightarrow{0 < c < \frac{\pi}{2}} c = \frac{\pi}{6}$$

$$\Rightarrow \frac{ab}{c} = \frac{(-\frac{1}{3})(\frac{2\pi}{3})}{\frac{\pi}{6}} = -\frac{4}{3}$$

(مسئله ۲- مثلثات: صفحه‌های ۲۴ تا ۲۹)

(جهانبخش نیکبام)

۱۰- گزینه «۲»

$$2T = \frac{9\pi}{8} - \frac{\pi}{8} \Rightarrow 2T = \pi \Rightarrow T = \frac{\pi}{2} \Rightarrow \frac{\pi}{|b|} = \frac{\pi}{2} \Rightarrow |b| = 2$$

چون در همسایگی صفر تابع نزولی است، پس $b < 0$ است (چرا؟)، یعنی $b = -2$.

$$f(x) = a - \tan 2x \Rightarrow f(\frac{\pi}{8}) = 0 \Rightarrow a - \tan \frac{\pi}{4} = 0 \Rightarrow a = 1$$

$$\Rightarrow f(x) = 1 - \tan 2x$$

$$(a-b) \frac{\pi}{8} = \frac{3\pi}{8} \Rightarrow f(\frac{3\pi}{8}) = 1 - \tan 2(\frac{3\pi}{8})$$

$$= 1 - \tan \frac{3\pi}{4} = 1 - (-1) = 2$$

(مسئله ۲- مثلثات: صفحه ۳۲)

$$\Rightarrow 5 \tan^3 x + 3 \tan^2 x + 3 = 5 \tan^3 x + 5 \tan x + 5$$

$$\Rightarrow 3 \tan^2 x - 5 \tan x - 2 = 0 \Rightarrow \tan x = 2, -\frac{1}{3}$$

پس A هم دو مقدار می‌تواند داشته باشد:

$$A = 2 + \frac{1}{2} = \frac{5}{2}$$

$$A = -\frac{1}{3} - 3 = -\frac{10}{3}$$

(ریاضی ۱- مثلثات: صفحه‌های ۳۲ تا ۳۶)

(ستار زوری)

۷- گزینه «۱»

$$y = a \cos(\frac{b\pi x}{2} + \frac{\pi}{2}) = -a \sin(\frac{b\pi x}{2})$$

با توجه به این که نمودار تابع در مبدأ صعودی است:

$$(-a)(b) > 0 \text{ (چرا؟)} \Rightarrow ab < 0 \quad (1)$$

از طرفی با توجه به این که بیشترین مقدار تابع ۳ است، $|a| = 3$.

$$6 = \frac{3T}{4} \Rightarrow T = 8 = \frac{2\pi}{\frac{\pi}{2}|b|} \Rightarrow |b| = \frac{1}{2}$$

$$\begin{cases} a = 3 \xrightarrow{(1)} b = -\frac{1}{2} \Rightarrow a - b = 3 + \frac{1}{2} = \frac{7}{2} \\ a = -3 \xrightarrow{(1)} b = \frac{1}{2} \Rightarrow a - b = -3 - \frac{1}{2} = -\frac{7}{2} \end{cases}$$

(مسئله ۲- مثلثات: صفحه‌های ۲۴ تا ۲۹)

(شاهر معنوی)

۸- گزینه «۴»

توجه کنید که $BC = T$ و ارتفاع وارد بر ضلع BC همان اختلاف ماکزیمم و مینیمم تابع $f(x)$ است، بنابراین:

$$S_{ABC} = 2\pi \Rightarrow \frac{1}{2} \times \frac{2\pi}{|b|} \times (2 - (-2)) = 2\pi$$

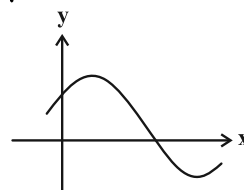
$$\Rightarrow \frac{2}{|b|} = 1 \Rightarrow |b| = 2$$

شکل زیر نمودار تابع $y = \cos(x - \frac{\pi}{4})$ را در همسایگی $x=0$ نشان می‌دهد که صعودی است. با توجه به شکل صورت سؤال، نمودار تابع

$$f(x) = -2 \cos(bx - \frac{\pi}{4}) + c$$

$$(-2)(b) < 0 \text{ (چرا؟)} \xrightarrow{|b|=2} b = 2$$

است، پس:



$$\Rightarrow f(x) = -2 \cos(2x - \frac{\pi}{4}) + c$$



ریاضی پایه

۱۱- گزینه «۲»

(رضا پعفری)

می‌دانیم اگر a ریشه n ام b باشد، آن‌گاه: $b = a^n$

بنابراین: $729 = a^6 \xrightarrow{a < 0} a = -\sqrt[6]{729} = -3$

(ریاضی ۱- صفحه‌های ۴۷ تا ۵۸)

۱۲- گزینه «۱»

(یوانیش نیکنام)

ابتدا $a = -\sqrt{7-4\sqrt{3}}$ را به شکل زیر ساده می‌کنیم:

$$a = -\sqrt{7-4\sqrt{3}} = -\sqrt{(2-\sqrt{3})^2} = -|2-\sqrt{3}| = \sqrt{3}-2$$

اکنون داریم:

$$a - 5a^{-1} + 2 = \sqrt{3}-2 - \frac{5}{\sqrt{3}-2} + 2$$

$$= \sqrt{3} + \frac{5}{2-\sqrt{3}} \times \frac{2+\sqrt{3}}{2+\sqrt{3}} = \sqrt{3} + 5(\sqrt{3}+2) = 10 + 6\sqrt{3}$$

و در نهایت ریشه سوم $10 + 6\sqrt{3}$ را به دست می‌آوریم:

$$\sqrt[3]{10+6\sqrt{3}} = \sqrt[3]{(\sqrt{3}+1)^3} = \sqrt{3}+1$$

(ریاضی ۱- صفحه‌های ۴۷ تا ۵۸)

۱۳- گزینه «۲»

(سیدرضا اسلامی)

اگر فرض کنیم پس از هر ۲۰ دقیقه، جرم باکتری‌ها b برابر می‌شود، پس از دو ساعت (۱۲۰ دقیقه) جرم باکتری‌ها b^6 برابر خواهد شد. بنابراین:

$$b^6 = 2 \Rightarrow b = \sqrt[6]{2}$$

از طرفی با توجه به این که ۲۶۰ دقیقه معادل ۱۳ تا ۲۰ دقیقه است، جرم

باکتری‌ها پس از ۲۶۰ دقیقه b^{13} برابر می‌شود. بنابراین:

$$b^{13} = (\sqrt[6]{2})^{13} = 2^{\frac{13}{6}} = 2^2 \times 2^{\frac{1}{6}} = 4\sqrt[6]{2}$$

(ریاضی ۱- صفحه‌های ۵۹ تا ۶۱)

۱۴- گزینه «۲»

(داور یوالمنی)

با توجه به این که $0 < a < 1$ است، پس $\sqrt[4]{a} < \sqrt[5]{a} < \sqrt[6]{a}$.

بنابراین:

$$\begin{cases} z = \sqrt[4]{a} \\ y = \sqrt[5]{a} \\ x = \sqrt[6]{a} \end{cases}$$

از طرفی می‌دانیم هر عدد مثبت دارای دو ریشه با مرتبه زوج (ریشه دوم،

$$\begin{cases} m = -\sqrt[4]{a} \\ n = -\sqrt[6]{a} \end{cases} \quad \text{چهارم، ششم و ... است که قرینه یکدیگرند. پس:}$$

حال درستی گزینه‌ها را بررسی می‌کنیم:

$$m + z = -\sqrt[4]{a} + \sqrt[4]{a} = 0 = -\sqrt[6]{a} + \sqrt[6]{a} = n + x \quad (1)$$

$$\left. \begin{aligned} z + n &= \sqrt[4]{a} - \sqrt[6]{a} < 0 \\ m + x &= -\sqrt[4]{a} + \sqrt[6]{a} > 0 \end{aligned} \right\} \Rightarrow z + n < m + x \quad (2)$$

$$m + x = -\sqrt[4]{a} + \sqrt[6]{a} > 0 \quad (3)$$

$$n + y = -\sqrt[6]{a} + \sqrt[6]{a} < 0 \quad (4)$$

پس گزینه «۲» نادرست است.

(ریاضی ۱- صفحه‌های ۴۷ تا ۵۸)

۱۵- گزینه «۴»

(امیررضا ذاکر زاده)

مخرج کسر را گویا می‌کنیم:

$$\begin{aligned} \frac{3}{(\sqrt[3]{2}+1)^2} \times \frac{(\sqrt[3]{4}-\sqrt[3]{2}+1)^2}{(\sqrt[3]{4}-\sqrt[3]{2}+1)^2} &= \frac{3(\sqrt[3]{4}-\sqrt[3]{2}+1)^2}{(\sqrt[3]{2})^3+1} \\ &= \frac{3(\sqrt[3]{16}+\sqrt[3]{4}+1-2\sqrt[3]{8}+2\sqrt[3]{4}-2\sqrt[3]{2})}{3^2} \\ &= \frac{2\sqrt[3]{2}+\sqrt[3]{4}+1-4+2\sqrt[3]{4}-2\sqrt[3]{2}}{3} = \frac{3\sqrt[3]{4}-3}{3} = \sqrt[3]{4}-1 \end{aligned}$$

پس $a = 4$.

(ریاضی ۱- صفحه‌های ۶۲ تا ۶۷)

۱۶- گزینه «۱»

(اخشین قاصه‌فان)

با توجه به اتحاد $(a+b)(a^2-ab+b^2) = a^3+b^3$ ، داریم:

$$(\sqrt[3]{x} + \sqrt[3]{2-x})(\sqrt[3]{x^2} - \sqrt[3]{2x-x^2} + \sqrt[3]{x^2-4x+4})$$



(سیدرضا اسلامی)

۱۹- گزینه «۴»

به ازای $b = 0$ ، عبارت داده شده را تجزیه می‌کنیم:

$$A = 2a^2 - 2b^2 + 3ab - a + 2b - 1$$

$$\xrightarrow{b=0} A = 2a^2 - a - 1 = (2a+1)(a-1)$$

به ازای $b = 0$ ، گزینه‌های «۱» و «۲» یعنی عامل $a+1$ در عبارت A وجود ندارد. بنابراین یکی از گزینه‌های «۳» و «۴» پاسخ درست است. این کار را به ازای $a = 0$ نیز انجام می‌دهیم:

$$A = 2a^2 - 2b^2 + 3ab - a + 2b - 1 \xrightarrow{a=0} A = -2b^2 + 2b - 1 = (b-1)(-2b+1)$$

به ازای $a = 0$ ، عامل $b+1$ در عبارت A وجود ندارد. پس گزینه «۳» نیز رد می‌شود. تجزیه عبارت داده شده به صورت زیر است:

$$A = (2a - b + 1)(2b + a - 1)$$

(ریاضی ۱- صفحه‌های ۶۲ تا ۶۷)

(کاظم ایلالی)

۲۰- گزینه «۲»

با فرض $A = a^{\frac{1}{6}}$ و $B = b^{\frac{1}{6}}$ ، تساوی‌های داده شده به این صورت درمی‌آیند:

$$\begin{cases} B^2 = A^3 - 4 \\ B^2 = A^2 + 4 \end{cases} \xrightarrow{\text{جمع دو رابطه}} A^3 - B^2 + A^2 - B^2 = 0$$

$$\Rightarrow (A-B)(A^2 + AB + B^2) + (A-B)(A+B) = 0$$

$$\Rightarrow (A-B)(A^2 + B^2 + AB + A + B) = 0$$

با توجه به این که $A, B > 0$ هستند، عبارت پرانتز دوم مثبت می‌باشد،

$$A = B$$

بنابراین:

$$B^2 = A^3 - 4 \xrightarrow{A=B} B^2 = B^3 - 4 \Rightarrow B^3 - B^2 - 4 = 0$$

$$B^3 - 8 - (B^2 - 4) = 0$$

$$\Rightarrow (B-2)(B^2 + 2B + 4) - (B-2)(B+2) = 0$$

$$(B-2)(B^2 + B + 2) = 0 \Rightarrow \begin{cases} B = 2 \\ B^2 + B + 2 = 0 \end{cases} \text{ غ ق ق}$$

$$\frac{1}{b^6} = 2 \Rightarrow \frac{1}{b^3} = 4 \Rightarrow \frac{1}{b^3} - \frac{1}{b^6} = 4 - 2 = 2$$

در نتیجه:

(ریاضی ۱- صفحه‌های ۶۲ تا ۶۷)

$$= x + (2-x) = 2 \xrightarrow{\sqrt{x} + \sqrt{2-x} = 1}$$

$$\sqrt[3]{x^2} - \sqrt[3]{2x-x^2} + \sqrt[3]{x^2-4x+4} = 2$$

(ریاضی ۱- صفحه‌های ۶۲ تا ۶۷)

۱۷- گزینه «۲»

(موسان کوروزی)

$$0 < x < 1 \Rightarrow \frac{1}{x} > x \Rightarrow x - \frac{1}{x} < 0 \quad (1)$$

با توجه به اتحاد $(a+b)^2 = a^2 + b^2 + 2ab$ داریم:

$$(x - \frac{1}{x})^2 = x^2 + \frac{1}{x^2} - 2 = 18 - 2 = 16 \xrightarrow{(1)} x - \frac{1}{x} = -4$$

حال با استفاده از اتحاد $a^3 - b^3 = (a-b)(a^2 + ab + b^2)$ داریم:

$$x^3 - \frac{1}{x^3} = (x - \frac{1}{x})(x^2 + \frac{1}{x^2} + 1)$$

$$= (-4)(18+1) = -4 \times 19 = -76$$

(ریاضی ۱- صفحه‌های ۶۲ تا ۶۷)

۱۸- گزینه «۲»

(محمدرضا راسخ)

$$ab + ac + bc = \frac{(a+b+c)^2 - (a^2 + b^2 + c^2)}{2} = -4$$

$$(ab)^2 + (ac)^2 + (bc)^2 = (ab + ac + bc)^2 - 2abc(a+b+c)$$

$$= (-4)^2 - 2abc(0) = 16$$

$$a^4 + b^4 + c^4 = (a^2 + b^2 + c^2)^2 - 2((ab)^2 + (ac)^2 + (bc)^2)$$

$$\Rightarrow a^4 + b^4 + c^4 = 8^2 - 2(16) = 32$$

روش دوم: با در نظر گرفتن $c = 0$ ، داریم:

$$a + b = 0 \Rightarrow b = -a \quad (*)$$

$$a^2 + b^2 = 8 \xrightarrow{(*)} 2a^2 = 8 \Rightarrow a^2 = b^2 = 4$$

در نتیجه:

$$a^4 + b^4 + c^4 = 16 + 16 + 0 = 32$$

(ریاضی ۱- صفحه‌های ۶۲ تا ۶۷)



هندسه ۳

۲۱- گزینه «۱»

(نیما معین)

ابتدا دستگاه را مرتب می‌کنیم:

$$\begin{cases} (2-k)x + y = 0 \\ -3x + ky = 2 \end{cases}$$

معادله در صورتی بی‌شمار جواب دارد که تساوی $\frac{2-k}{-3} = \frac{1}{k} = \frac{0}{2}$

برقرار باشد، ولی به وضوح معادله $\frac{1}{k} = \frac{0}{2}$ فاقد جواب است، پس این

دستگاه به ازای هیچ مقدار k بی‌شمار جواب ندارد.

(هنر سه ۳- صفحه ۲۶)

۲۲- گزینه «۱»

(سوکندر روشنی)

ابتدا شرط جواب نداشتن دستگاه اول را می‌نویسیم:

$$\frac{k}{4} = \frac{-1}{-k} \neq \frac{1}{2}$$

$$\frac{k}{4} = \frac{1}{k} \Rightarrow k^2 = 4 \Rightarrow k = \pm 2$$

$$k = 2 \Rightarrow \frac{2}{4} = \frac{1}{2} \text{ غ ق}$$

$$k = -2 \Rightarrow -\frac{2}{4} \neq \frac{1}{2} \text{ ق ق}$$

پس $k = -2$ است. حال این مقدار را در دستگاه دوم جای‌گذاری می‌کنیم:

$$\begin{cases} -2x - 3y = 1 \\ 4x - 6y = m + 3 \end{cases}$$

اگر ماتریس ضرایب دستگاه را با A نمایش دهیم، آن‌گاه داریم:

$$A = \begin{bmatrix} -2 & -3 \\ 4 & -6 \end{bmatrix} \Rightarrow |A| = (-2)(-6) - (-3) \times 4 = 24 \neq 0$$

پس این دستگاه جواب منحصر به فرد دارد.

(هنر سه ۳- صفحه ۲۶)

۲۳- گزینه «۴»

(امیررضا فلاح)

دستگاه معادلات $\begin{cases} ax + by = c \\ a'x + b'y = c' \end{cases}$ از دو خط تشکیل شده است. اگر

$\frac{a}{a'} \neq \frac{b}{b'}$ ، شیب دو خط یکسان نبوده و متقاطع هستند. در صورتی که

$\frac{a}{a'} = \frac{b}{b'} \neq \frac{c}{c'}$ ، دو خط شیب یکسان و عرض از مبدأ متفاوت دارند، پس

موازی و غیرمنطبق هستند و چنانچه $\frac{a}{a'} = \frac{b}{b'} = \frac{c}{c'}$ ، شیب و عرض از مبدأ

دو خط یکسان است و دو خط بر هم منطبق هستند.

$$m = 4 \Rightarrow \begin{cases} x - 4y = 8 \\ 4(x - y) = 4(y + 4) \end{cases} \Rightarrow \begin{cases} x - 4y = 8 \\ x - 2y = 4 \end{cases}$$

از آنجا که $\frac{-4}{-2} \neq \frac{1}{1}$ ، دو خط متقاطع هستند. از طرفی شیب خط اول برابر

$\frac{1}{4}$ و شیب خط دوم برابر $\frac{1}{2}$ است و از آنجا که $\frac{1}{2} \times \frac{1}{4} \neq -1$ ، پس دو

خط بر هم عمود نیستند.

(هنر سه ۳- صفحه ۲۶)

۲۴- گزینه «۳»

(سوکندر روشنی)

وارون وارون یک ماتریس، برابر خود آن ماتریس است، پس کافی است

وارون وارون ماتریس ضرایب دستگاه را به دست آورده و در ماتریس

مجهولات ضرب کنیم.

$$A^{-1} = \begin{bmatrix} 1 & 2 \\ 5 & 5 \\ 1 & -2 \\ 5 & -5 \end{bmatrix} \xrightarrow{((A^{-1})^{-1})=A} A = \frac{1}{-1} \begin{bmatrix} -3 & -2 \\ -1 & 1 \\ 5 & 5 \end{bmatrix} = \begin{bmatrix} 3 & 2 \\ 1 & -1 \end{bmatrix}$$

$$AX = B \Rightarrow B = \begin{bmatrix} 3 & 2 \\ 1 & -1 \end{bmatrix} \begin{bmatrix} 2 \\ -1 \end{bmatrix} = \begin{bmatrix} 4 \\ 3 \end{bmatrix}$$

بنابراین مجموع درایه‌های ماتریس مقادیر معلوم دستگاه، برابر $4 + 3 = 7$

است.

(هنر سه ۳- صفحه‌های ۲۳ تا ۲۵)



۲۵- گزینه «۲»

(فرزانه فاکپاش)

دستگاه معادلات دو معادله دو مجهول در صورتی جواب منحصر به فرد دارد که دترمینان ماتریس ضرایب دستگاه مخالف صفر باشد. بنابراین دستگاهی به ازای تمام مقادیر حقیقی m دارای جواب منحصر به فرد است که دترمینان آن همواره مخالف صفر باشد.

بررسی گزینه‌ها:

$$A = \begin{bmatrix} m & -1 \\ 1 & -m \end{bmatrix} \Rightarrow |A| = -m^2 + 1 = 0 \Rightarrow m = \pm 1 \quad (1)$$

(۲)

$$A = \begin{bmatrix} m & -1 \\ 3 & m-2 \end{bmatrix} \Rightarrow |A| = m(m-2) + 3 = m^2 - 2m + 3 = 0$$

معادله فاقد ریشه حقیقی است. $\Rightarrow \Delta < 0$

(۳)

$$A = \begin{bmatrix} m^2 & 4 \\ m-1 & 1 \end{bmatrix} \Rightarrow |A| = m^2 - 4(m-1) = m^2 - 4m + 4 = 0$$

$$\Rightarrow (m-2)^2 = 0 \Rightarrow m = 2$$

(۴)

$$A = \begin{bmatrix} 1 & m \\ m & m+2 \end{bmatrix} \Rightarrow |A| = (m+2) - m^2 = -m^2 + m + 2 = 0$$

$$\Rightarrow m^2 - m - 2 = 0 \Rightarrow (m-2)(m+1) = 0 \Rightarrow \begin{cases} m = 2 \\ m = -1 \end{cases}$$

بنابراین دستگاه معادلات گزینه «۲» به ازای تمام مقادیر حقیقی m ، دارای

جواب منحصر به فرد است.

(هنر سه - صفحه ۲۶)

۲۶- گزینه «۳»

(سیرمهر رضا حسینی فر)

ابتدا معادلاتی که فاقد m و n هستند را در یک دستگاه حل می‌کنیم:

$$\begin{cases} 4x + 5y = 3 \\ 2x - 3y = 7 \end{cases} \Rightarrow \begin{cases} x = 2 \\ y = -1 \end{cases}$$

با جای گذاری در معادلات دیگر داریم:

$$\begin{cases} x + 2my = 4 \\ mx - ny = m \end{cases} \Rightarrow \begin{cases} 2 - 2m = 4 \Rightarrow m = -1 \\ 2m + n = m \Rightarrow m + n = 0 \\ m = -1 \rightarrow n = 1 \end{cases}$$

بنابراین خواسته سؤال برابر است با: $n - m = 1 - (-1) = 2$

(هنر سه - صفحه‌های ۲۳ تا ۲۵)

۲۷- گزینه «۲»

(امیرحسین ابومفیوب)

طرفین رابطه ماتریسی را از سمت چپ در ماتریس A^{-1} ضرب می‌کنیم:

$$AX = A^{-1} - A \Rightarrow A^{-1}(AX) = A^{-1}(A^{-1} - A)$$

$$\Rightarrow X = (A^{-1})^2 - I$$

حال ماتریس A^{-1} را محاسبه کرده و در رابطه جای گذاری می‌کنیم:

$$A = \begin{bmatrix} 1 & 1 \\ 3 & 2 \\ 3 & 3 \end{bmatrix} \Rightarrow A^{-1} = \frac{1}{-1} \begin{bmatrix} 2 & -1 \\ -3 & 1 \end{bmatrix} = \begin{bmatrix} -2 & 1 \\ 3 & -3 \end{bmatrix}$$

$$\Rightarrow X = \begin{bmatrix} -2 & 1 \\ 3 & -3 \end{bmatrix} \begin{bmatrix} -2 & 1 \\ 3 & -3 \end{bmatrix} - I = \begin{bmatrix} 13 & -5 \\ -45 & 18 \end{bmatrix} - \begin{bmatrix} 1 & 0 \\ 0 & 1 \end{bmatrix}$$

$$\Rightarrow X = \begin{bmatrix} 12 & -5 \\ -45 & 17 \end{bmatrix}$$

بنابراین مجموع درایه‌های ماتریس X برابر است با:

$$12 - 5 - 45 + 17 = -21$$

(هنر سه - صفحه‌های ۲۳ تا ۲۵)



۲۸- گزینه «۴»

(امیرحسین ابومحبوب)

ابتدا به کمک رابطه داده شده، ماتریس A^{-1} را محاسبه می‌کنیم:

$$A^2 - 3A + 2I = \bar{O} \Rightarrow -A^2 + 3A = 2I$$

$$\Rightarrow -\frac{1}{2}A^2 + \frac{3}{2}A = I \Rightarrow A \underbrace{\left(-\frac{1}{2}A + \frac{3}{2}I\right)}_{A^{-1}} = I$$

$$\Rightarrow A^{-1} = -\frac{1}{2}A + \frac{3}{2}I \quad (*)$$

حال طرفین معادله $AX = A - I$ را از سمت چپ در A^{-1} ضرب می‌کنیم:

$$A^{-1}(AX) = A^{-1}(A - I)$$

$$\Rightarrow X = I - A^{-1} \xrightarrow{(*)} = I - \left(-\frac{1}{2}A + \frac{3}{2}I\right)$$

$$\Rightarrow X = \frac{1}{2}A - \frac{1}{2}I = \frac{1}{2}(A - I)$$

(هنر سه - صفحه‌های ۲۳ تا ۲۵)

۲۹- گزینه «۴»

(هومن عقیلی)

طرفین تساوی را از سمت چپ در ماتریس A^{-1} و از سمت راست در

ماتریس B^{-1} ضرب می‌کنیم. بنابراین لازم است ماتریس‌های A^{-1} و

B^{-1} را پیدا کنیم:

$$A = \begin{bmatrix} 3 & 5 \\ 1 & 2 \end{bmatrix} \Rightarrow A^{-1} = \begin{bmatrix} 2 & -5 \\ -1 & 3 \end{bmatrix}$$

$$B = \begin{bmatrix} 8 & 5 \\ 3 & 2 \end{bmatrix} \Rightarrow B^{-1} = \begin{bmatrix} 2 & -5 \\ -3 & 8 \end{bmatrix}$$

$$AXB = C \Rightarrow A^{-1}(AXB)B^{-1} = (A^{-1}A)X(BB^{-1}) = A^{-1}CB^{-1}$$

$$\Rightarrow X = A^{-1}CB^{-1} = \begin{bmatrix} 2 & -5 \\ -1 & 3 \end{bmatrix} \begin{bmatrix} 1 & 1 \\ 1 & 1 \end{bmatrix} \begin{bmatrix} 2 & -5 \\ -3 & 8 \end{bmatrix}$$

$$= \begin{bmatrix} -3 & -3 \\ 2 & 2 \end{bmatrix} \begin{bmatrix} 2 & -5 \\ -3 & 8 \end{bmatrix} = \begin{bmatrix} 3 & -9 \\ -2 & 6 \end{bmatrix}$$

بنابراین مجموع درایه‌های ماتریس X برابر است با:

$$3 - 9 - 2 + 6 = -2$$

(هنر سه - صفحه‌های ۲۳ تا ۲۵)

۳۰- گزینه «۲»

(امیرحسین ابومحبوب)

ابتدا از ماتریس A در سمت چپ تساوی فاکتور می‌گیریم:

$$A \times \begin{bmatrix} -2 & 1 \\ -3 & 2 \end{bmatrix} + A \times 3I = \begin{bmatrix} 1 & -2 \\ 2 & -3 \end{bmatrix}$$

$$\Rightarrow A \left(\begin{bmatrix} -2 & 1 \\ -3 & 2 \end{bmatrix} + \begin{bmatrix} 3 & 0 \\ 0 & 3 \end{bmatrix} \right) = \begin{bmatrix} 1 & -2 \\ 2 & -3 \end{bmatrix}$$

$$\Rightarrow A \times \begin{bmatrix} 1 & 1 \\ -3 & 5 \end{bmatrix} = \begin{bmatrix} 1 & -2 \\ 2 & -3 \end{bmatrix}$$

طرفین تساوی را از راست در وارون ماتریس $\begin{bmatrix} 1 & 1 \\ -3 & 5 \end{bmatrix}$ ضرب می‌کنیم. در

$$A = \begin{bmatrix} 1 & -2 \\ 2 & -3 \end{bmatrix} \begin{bmatrix} 1 & 1 \\ -3 & 5 \end{bmatrix}^{-1}$$

این صورت داریم:

برای دو ماتریس مربعی وارون‌پذیر و هم‌مرتبه C و D ، رابطه

$$(CD)^{-1} = D^{-1}C^{-1}$$

برقرار است. پس با وارون کردن طرفین رابطه فوق داریم:

$$A^{-1} = \begin{bmatrix} 1 & 1 \\ -3 & 5 \end{bmatrix} \begin{bmatrix} 1 & -2 \\ 2 & -3 \end{bmatrix}^{-1}$$

$$= \begin{bmatrix} 1 & 1 \\ -3 & 5 \end{bmatrix} \times \frac{1}{1} \begin{bmatrix} -3 & 2 \\ 1 & -2 \end{bmatrix} = \begin{bmatrix} -5 & 3 \\ -1 & -1 \end{bmatrix}$$

حال جواب‌های دستگاه را به دست می‌آوریم:

$$X = A^{-1}B = \begin{bmatrix} -5 & 3 \\ -1 & -1 \end{bmatrix} \begin{bmatrix} 1 \\ 2 \end{bmatrix} = \begin{bmatrix} 1 \\ -3 \end{bmatrix} \Rightarrow \begin{cases} x=1 \\ y=-3 \end{cases} \Rightarrow x+y=-2$$

(هنر سه - صفحه‌های ۲۳ تا ۲۵)



ریاضیات گسسته

۳۱- گزینه «۲»

(امیرحسین ابومحبوب)

می‌دانیم از هر سه عدد متوالی، یکی بر ۳ بخش پذیر است. حال فرض کنیم

$$a \equiv k \pmod{3} \text{ در این صورت داریم:}$$

بررسی گزینه‌ها:

$$(1) \begin{cases} a + 2 \equiv k + 2 \pmod{3} \\ a + 4 \equiv k + 4 \equiv k + 1 \pmod{3} \end{cases}$$

$$(2) \begin{cases} a + 3 \equiv k + 3 \equiv k \pmod{3} \\ a + 6 \equiv k + 6 \equiv k \pmod{3} \end{cases}$$

$$(3) \begin{cases} a + 5 \equiv k + 5 \equiv k + 2 \pmod{3} \\ a + 10 \equiv k + 10 \equiv k + 1 \pmod{3} \end{cases}$$

$$(4) \begin{cases} a + 7 \equiv k + 7 \equiv k + 1 \pmod{3} \\ a + 14 \equiv k + 14 \equiv k + 2 \pmod{3} \end{cases}$$

همان‌طور که مشاهده می‌شود، در گزینه‌های «۱»، «۳» و «۴»، سه عدد داده

شده با اعداد متوالی k ، $k+1$ و $k+2$ به پیمانه ۳ هم‌نهشت هستند، پس

یکی قطعاً بر ۳ بخش پذیر است. به عنوان مثال نقض گزینه «۲»، می‌توان

$a = 1$ را در نظر گرفت که هیچ کدام از اعداد ۱، ۴ و ۷ بر ۳ بخش پذیر

نیستند.

(ریاضیات گسسته - مشابه تمرین ۱۳ صفحه ۱۷)

۳۲- گزینه «۳»

(افشین فاضل‌نژاد)

ابتدا $10!$ را به عامل‌های اول آن تجزیه می‌کنیم:

$$10! = 1 \times 2 \times 3 \times 2^2 \times 5 \times (2 \times 3) \times 7 \times 2^3 \times 3^2 \times (2 \times 5)$$

$$= 2^8 \times 3^4 \times 5^2 \times 7$$

بنابراین کوچک‌ترین مقدار طبیعی m ، برای این که $10! \times m$ مربع کامل

شود، برابر ۷ است.

$$a \equiv b \pmod{7} \Rightarrow a - 2 \times 7 \equiv b \pmod{7} \Rightarrow a - 14 \equiv b$$

نادرستی سایر گزینه‌ها با استفاده از خواص هم‌نهشتی قابل اثبات است.

(ریاضیات گسسته - صفحه‌های ۱۸ تا ۲۱)

۳۳- گزینه «۱»

(سوگند روشنی)

با توجه به این که مجموعه اعداد صحیح در رابطه هم‌نهشتی به پیمانه m ، به

۱۳ کلاس هم‌نهشتی افزاز شده است، پس $m = 13$ و در نتیجه داریم:

$$\overset{13}{5}a \equiv \overset{13}{5} \Rightarrow 8 + 10a + 500 \equiv \overset{13}{5} \Rightarrow 8 + 10a + 6 \equiv \overset{13}{5}$$

$$\Rightarrow 10a \equiv -9 \pmod{13} \Rightarrow 10a \equiv -9 + 39 \equiv 30 \pmod{13}$$

$$\xrightarrow{+10} \xrightarrow{(10,13)=1} a \equiv 3 \pmod{13} \quad (0 < a < 13) \Rightarrow a = 3$$

$$\overset{13}{a}a \equiv \overset{13}{33} \equiv 7 \pmod{13} \Rightarrow aa \in [7]_{13}$$

(ریاضیات گسسته - صفحه‌های ۱۸، ۱۹ و ۲۲)

۳۴- گزینه «۳»

(سیرمهرضا حسینی‌فر)

ابتدا تمام مقادیر را به سمت چپ رابطه هم‌نهشتی منتقل می‌کنیم:

$$a^m - 2 \equiv 2a^m - a \pmod{m} \Rightarrow a^m - 2a^m + a - 2 \equiv 0 \pmod{m}$$

$$\Rightarrow a^m(a - 2) + (a - 2) \equiv 0 \pmod{m} \Rightarrow (a - 2)(a^m + 1) \equiv 0 \pmod{m}$$



n عددی دو رقمی است، پس داریم:

$$10 \leq n \leq 99 \Rightarrow 10 \leq 19k - 7 \leq 99 \Rightarrow 17 \leq 19k \leq 106$$

$$\frac{k \in \mathbb{Z}}{\rightarrow} 1 \leq k \leq 5$$

پس ۵ عدد طبیعی دو رقمی برای n پیدا می‌شود.

(ریاضیات گسسته - صفحه‌های ۱۸ تا ۲۱)

(سوکنر روشنی)

گزینه «۴» -۳۷

باقی‌مانده تقسیم عدد a بر ۵، یکی از اعداد صفر تا ۴ است، پس داریم:

$$a \equiv 0 \Rightarrow a^3 \equiv 0 \Rightarrow a^3 - 3 \equiv -3 \equiv 2$$

$$a \equiv 1 \Rightarrow a^3 \equiv 1 \Rightarrow a^3 - 3 \equiv -2 \equiv 3$$

$$a \equiv 2 \Rightarrow a^3 \equiv 8 \Rightarrow a^3 - 3 \equiv 5 \equiv 0$$

$$a \equiv 3 \Rightarrow a^3 \equiv 27 \Rightarrow a^3 - 3 \equiv 24 \equiv 4$$

$$a \equiv 4 \Rightarrow a^3 \equiv 64 \Rightarrow a^3 - 3 \equiv 61 \equiv 1$$

بنابراین با توجه به فرض سؤال، تنها حالت $a \equiv 2$ قابل قبول است. در این

صورت داریم:

$$a \equiv 2 \Rightarrow a = 5k + 2 \Rightarrow a - 13 = 5k - 11$$

k در تقسیم بر ۳، به یکی از سه صورت زیر نوشته می‌شود:

$$k = 3t \Rightarrow a - 13 = 15t - 11 \equiv 4$$

$$k = 3t + 1 \Rightarrow a - 13 = 15t - 6 \equiv 9$$

طبق ویژگی ۷ هم‌نهشتی و با توجه به این‌که $(a^2 + 1, m) = 1$ ، طرفین

رابطه هم‌نهشتی را بر $a^2 + 1$ تقسیم می‌کنیم (بدون این‌که پیمانه تغییر کند):

$$a - 2 \equiv 0 \Rightarrow m \mid a - 2$$

درستی سایر گزینه‌ها به ازای $m = 7$ و $a = 2$ رد می‌شود.

(ریاضیات گسسته - صفحه ۲۲)

(علیرضا شریف‌فطیعی)

گزینه «۱» -۳۵

طبق قضیه تقسیم داریم:

$$105 = bq + 15, \quad b > 15$$

$$\Rightarrow 90 = bq \Rightarrow b \mid 90 \quad (1)$$

$$141 = bq' + 21, \quad b > 21$$

$$\Rightarrow 120 = bq' \Rightarrow b \mid 120 \quad (2)$$

$$\xrightarrow{(1), (2)} b \mid (90, 120) \Rightarrow b \mid 30 \xrightarrow{b > 21} b = 30$$

پس فقط یک مقدار قابل قبول برای b وجود دارد.

(ریاضیات گسسته - صفحه‌های ۱۴ و ۱۵)

(علیرضا شریف‌فطیعی)

گزینه «۳» -۳۶

ابتدا کلاس هم‌نهشتی n را به پیمانه ۱۹ به دست می‌آوریم:

$$11^2 = 121 = 6 \times 19 + 7 \Rightarrow 11^2 \equiv 7 \xrightarrow{\times 11} 11^3 \equiv 77 \equiv 1$$

$$\xrightarrow{\text{به توان ۹}} 11^{27} \equiv 1 \xrightarrow{\times 11^2} 11^{29} \equiv 11^3 \equiv 7$$

$$\Rightarrow 11^{29} + n \equiv 7 + n \Rightarrow 7 + n \equiv 0 \Rightarrow n \equiv -7 \Rightarrow n = 19k - 7$$



$$a^3 - 3a^2 - 4a - 6 \equiv 4^3 - 3 \times 4^2 - 4 \times 4 - 6$$

$$\equiv 1 - (-1) - 2 - (-1) \equiv 1$$

(ریاضیات گسسته - صفحه‌های ۱۸ تا ۲۱)

(امد رضا فلاح)

۴۰ - گزینه «۲»

طبق قضیه تقسیم داریم:

$$a = bq + r \Rightarrow \Delta r = bq + r \Rightarrow \Delta r = bq \quad (*)$$

$$r < b \Rightarrow \Delta r < \Delta b \xrightarrow{(*)} bq < \Delta b$$

$$\Rightarrow q < \Delta \xrightarrow{q \in \mathbb{Z}} q_{\max} = 3$$

با جای‌گذاری $q = 3$ در رابطه (۱) داریم:

$$\Delta r = bq \xrightarrow{q=3} \Delta r = 3b \Rightarrow 4 \mid 3b$$

$$\Rightarrow 3b \equiv 0 \xrightarrow{\substack{(3, 4)=1 \\ +3}} b \equiv 0 \Rightarrow 4 \mid b$$

$$\Rightarrow b = 4k \xrightarrow{b < 20} b = 4, 8, 12, 16$$

پس ۴ مقدار برای مقسوم علیه و در نتیجه ۴ مقدار طبیعی برای مقسوم وجود

دارد که این مقادیر عبارتند از:

$$\begin{cases} b = 4 \Rightarrow r = 3 \Rightarrow a = 15 \\ b = 8 \Rightarrow r = 6 \Rightarrow a = 30 \\ b = 12 \Rightarrow r = 9 \Rightarrow a = 45 \\ b = 16 \Rightarrow r = 12 \Rightarrow a = 60 \end{cases}$$

(ریاضیات گسسته - صفحه‌های ۱۴، ۱۵ و ۲۲)

$$k = 3t + 2 \Rightarrow a - 13 = 15t - 1 \equiv 14$$

بنابراین مجموع مقادیر ممکن برای باقی‌مانده‌ها، برابر $4 + 9 + 14 = 27$ است.

(ریاضیات گسسته - صفحه‌های ۱۵ تا ۲۱)

(علیرضا شریف‌قطبی)

۳۸ - گزینه «۴»

عدد $7^{10} \times 11^{120}$ عددی فرد است، پس حاصل ضرب سه عدد صحیح a ،

b و c ، عددی فرد شده است و در نتیجه هر یک از مقادیر a ، b و c ،

عددی فرد هستند. می‌دانیم مربع هر عدد فرد به صورت

$8k + 1$ ($k \in \mathbb{Z}$) نوشته می‌شود، پس داریم:

$$a^2 + 2b^2 + 3c^2 = (8k + 1) + 2(8k' + 1) + 3(8k'' + 1)$$

$$= 8k + 16k' + 24k'' + 6 = 8(\underbrace{k + 2k' + 3k''}_q) + 6 \Rightarrow r = 6$$

(ریاضیات گسسته - صفحه‌های ۱۵ و ۱۶)

(امد رضا فلاح)

۳۹ - گزینه «۲»

با توجه به تعریف هم‌نهشتی و کلاس‌های هم‌نهشتی داریم:

$$m \mid 3a - 5 \Rightarrow 3a \equiv 5 \xrightarrow{\times 4} 12a \equiv 20$$

$$4a \in [9]_m \Rightarrow 4a \equiv 9 \xrightarrow{\times 3} 12a \equiv 27$$

$$\Rightarrow 27 \equiv 20 \Rightarrow m \mid 27 - 20 \Rightarrow m \mid 7 \xrightarrow{m \neq 1} m = 7$$

با فرض $m = 7$ ، روابط را بازنویسی می‌کنیم:

$$\begin{cases} 3a \equiv 5 \\ 4a \equiv 9 \end{cases} \xrightarrow{\text{تفاضل}} a \equiv 4$$



هندسه ۱

گزینه «۳» - ۴۱

(هومن عقیلی)

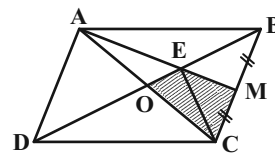
می‌دانیم اقطار متوازی الاضلاع منصف یکدیگرند، یعنی $OA = OC$.

از طرفی طبق فرض می‌دانیم که نقطه M وسط ضلع BC است،

یعنی $MB = MC$.

در نتیجه نقطه E محل هم‌مرسی میانه‌ها و مرکز ثقل مثلث ABC است و

خواهیم داشت:



$$S_{OEMC} = S_{OEC} + S_{MEC} \xrightarrow{S_{OEC} = S_{MEC} = \frac{1}{6} S_{ABC}} \rightarrow$$

$$S_{OEMC} = \frac{2}{6} S_{ABC} = \frac{1}{3} S_{ABC}$$

و از طرفی می‌دانیم که $S_{ABC} = \frac{1}{2} S_{ABCD}$ ، پس:

$$S_{OEMC} = \frac{1}{3} S_{ABC} \xrightarrow{S_{ABC} = \frac{1}{2} S_{ABCD}} \rightarrow S_{OEMC} = \frac{1}{6} S_{ABCD}$$

(هنرسه ۱- پندرضلعی‌ها؛ صفحه‌های ۶۵ تا ۶۸)

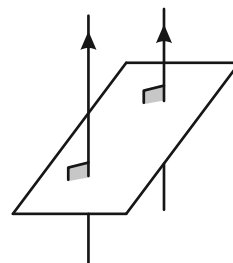
گزینه «۳» - ۴۲

(هومن عقیلی)

گزینه ۳ همواره نادرست است، زیرا اگر دو خط بر یک صفحه عمود شوند با

هم موازی می‌شوند که با فرض متنافر بودن آن‌ها مغایرت دارد. درستی

گزینه‌های ۱، ۲ و ۴ را خودتان بررسی کنید



(هنرسه ۱- تبسم فضایی؛ صفحه‌های ۷۸ تا ۸۶)

گزینه «۱» - ۴۳

(نیما مهنرس)

دو ساق AD و BC را از سمت B و A امتداد داده تا یکدیگر را در

نقطه M قطع کنند. مثلث MCD متساوی‌الساقین است (چرا؟). مجموع

فواصل هر نقطه روی قاعده مثلث MCD از دو ساق، برابر با ارتفاع وارد بر

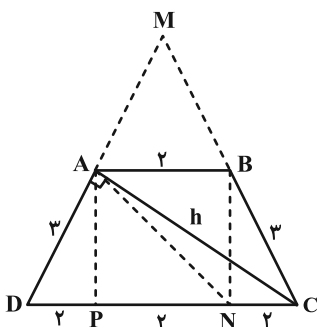
ساق مثلث است. بنابراین مجموع فواصل نقطه N از BC و AD برابر با

ارتفاع وارد بر ساق در مثلث MCD است.

در شکل از رأس A نیز بر قاعده بزرگ عمود کرده و پای عمود را P

می‌نامیم. واضح است که: $AB = DP = PN = NC$. با استفاده از تعمیم

قضیه تالس داریم:



$$ABCD \xrightarrow{AB \parallel CD} \text{دوزنقته} \rightarrow \frac{MA}{MD} = \frac{AB}{CD}$$

$$\Rightarrow \frac{MA}{MA+3} = \frac{2}{6} \Rightarrow MA = \frac{3}{2}$$

همچنین طبق فیثاغورس داریم:

$$BN^2 = BC^2 - CN^2 = 3^2 - 2^2 \Rightarrow BN = \sqrt{5}$$

$$S_{ABCD} = \frac{(2+6) \times \sqrt{5}}{2} = 4\sqrt{5} \quad (*)$$

همچنین از تشابه دو مثلث MAB و MCD داریم:

$$\Delta MAB \sim \Delta MCD \Rightarrow \frac{S_{MAB}}{S_{MCD}} = \left(\frac{MA}{MD}\right)^2 = \frac{1}{9}$$

$$\Rightarrow \frac{S_{ABCD}}{S_{MCD}} = \frac{8}{9} \quad (*) \rightarrow S_{MCD} = \frac{9\sqrt{5}}{2}$$

$$S_{MCD} = \frac{h \times MD}{2} \xrightarrow{MD = \frac{9}{2}, S_{MCD} = \frac{9\sqrt{5}}{2}} \rightarrow$$

$$\frac{9\sqrt{5}}{2} = \frac{h \times \frac{9}{2}}{2} \Rightarrow h = 2\sqrt{5}$$

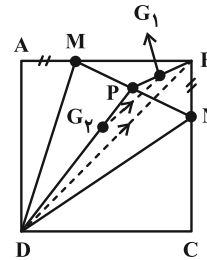
(هنرسه ۱- پندرضلعی‌ها؛ صفحه ۶۸)



۴۴ - گزینه «۴»

(مهرردار ملونری)

مرکز ثقل مثلث BMN (نقطه G_1) روی میانه BP و مرکز ثقل مثلث DMN (نقطه G_2) روی میانه DP قرار دارد و داریم:



$$\frac{PG_1}{PB} = \frac{PG_2}{PD} = \frac{1}{3} \xrightarrow{\text{عکس تالس}} G_1G_2 \parallel BD$$

حال در مثلث PBD، طبق تعمیم قضیه تالس داریم:

$$\frac{G_1G_2}{BD} = \frac{PG_1}{PB} = \frac{1}{3} \xrightarrow{BD=a\sqrt{2}} G_1G_2 = \frac{a\sqrt{2}}{3}$$

فرض $AM = BN$ اضافی بوده و تأثیری در پاسخ ندارد.

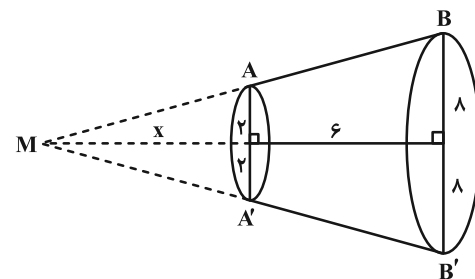
(هندسه ۱- هندسه ضلعی ها: صفحه ۶۷)

۴۵ - گزینه «۲»

(فاطمه بزرویی)

روش اول: ساق‌های AB و DC را از سمت A و D امتداد داده تا یکدیگر را در نقطه M قطع بکنند. شکل نهایی حاصل از دوران به صورت زیر می‌شود:

در مخروط حاصل طبق تعمیم قضیه تالس داریم:



$$ABB'A' \text{ دوزنقه} \Rightarrow AA' \parallel BB' \Rightarrow \frac{4}{16} = \frac{x}{x+6} \Rightarrow x=2$$

سپس حجم مخروط بزرگ و کوچک را محاسبه می‌کنیم:

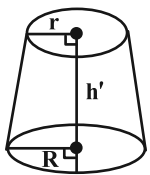
$$V_{\text{مخروط بزرگ}} = \frac{1}{3} \pi R^2 H \xrightarrow{R=8, H=16} \frac{1}{3} \times \pi \times 64 \times 16 = \frac{512\pi}{3}$$

$$V_{\text{مخروط کوچک}} = \frac{1}{3} \pi r^2 h \xrightarrow{r=2, h=6} \frac{1}{3} \times \pi \times 4 \times 6 = \frac{8\pi}{3}$$

حجم شکل موردنظر (مخروط ناقص) از اختلاف حجم مخروط بزرگ و کوچک به دست می‌آید:

$$V_{\text{مخروط ناقص}} = \frac{512\pi}{3} - \frac{8\pi}{3} = \frac{504\pi}{3} = 168\pi$$

روش دوم: حجم مخروط ناقص از رابطه زیر به دست می‌آید:



$$V = \frac{\pi h'}{3} (R^2 + r^2 + Rr)$$

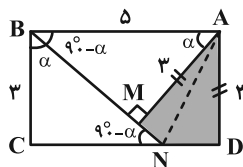
$$\xrightarrow{h'=H-h=6, R=8, r=2} V = \frac{\pi(6)}{3} (8^2 + 2^2 + 8(2))$$

$$= 2\pi(64 + 4 + 16) = 168\pi$$

(هندسه ۱- تبس فضایی: صفحه‌های ۹۵ و ۹۶)

۴۶ - گزینه «۳»

(سیرمهرضا سپینی فر)



دو مثلث ABM و BCN با همدیگر هم‌نهشت (ض‌ز) هستند و داریم:

$$\left. \begin{aligned} BN = AB = 5 \\ BM = CN = \sqrt{5^2 - 3^2} = 4 \end{aligned} \right\} \Rightarrow MN = ND = 1$$

$$S_{AMND} = 2S_{ADN} = 2 \times \left(\frac{1}{2} \times 1 \times 2\right) = 2$$

توجه: دو مثلث ADN و AMN هم‌نهشت هستند.

(هندسه ۱- هندسه ضلعی ها: صفحه‌های ۶۵ تا ۶۸)

۴۷ - گزینه «۲»

(مهرردار ملونری)

مطابق شکل، سطح مقطع مستطیل شکل ABCD (شامل قطر AC و یال

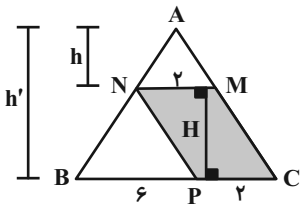
AB) مورد نظر است. داریم:



۴۹- گزینه «۲»

(امیررضا فلاح)

دو مثلث ANM و ABC با یکدیگر متشابه (ز ز) هستند، بنابراین داریم:



$$\frac{MN}{BC} = \frac{h}{h'} = \frac{1}{4} \Rightarrow h' = 4h \Rightarrow H = h' - h = 4h - h = 3h$$

$$\frac{S_{MNPC}}{S_{ABC}} = \frac{PC \times H}{\frac{1}{2} \times BC \times h'} = \frac{2 \times 3h}{\frac{1}{2} \times 6 \times 4h} = \frac{3}{8}$$

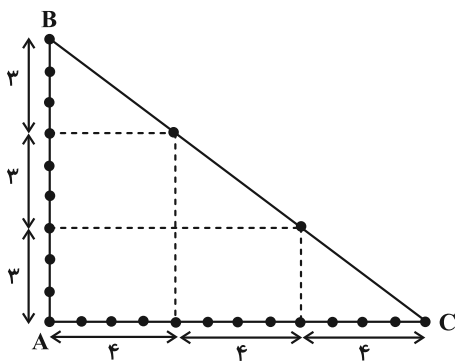
(هنر سه ۱- پترشعلی‌ها؛ صفحه‌های ۶۵ تا ۶۸)

۵۰- گزینه «۲»

(مهرراز ملونری)

شکل زیر، مثلث شبکه‌ای مورد نظر را نشان می‌دهد و هیچ حالت دیگری که

اضلاع قائمه آن، افقی و قائم نباشد، وجود ندارد. (چرا؟)



با توجه به شکل $b = 24$ و طبق فرمول پیک برای این مثلث شبکه‌ای داریم:

$$\begin{cases} S = \frac{b}{2} + i - 1 = \frac{24}{2} + i - 1 \\ S = \frac{12 \times 9}{2} = 54 \end{cases}$$

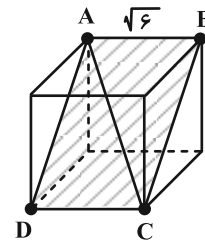
$$\Rightarrow 54 = 11 + i \Rightarrow i = 43 \quad (\text{تعداد نقاط درونی})$$

توجه: خط شامل ضلع BC ، شیب $-\frac{3}{4}$ دارد و این بدان معناست که به

ازای هر ۴ واحد افقی، ۳ واحد عمودی پایین می‌رویم تا به نقطه‌ای با

مختصات شبکه‌ای برسیم.

(هنر سه ۱- پترشعلی‌ها؛ صفحه‌های ۶۹ تا ۷۱)



$$BC = a\sqrt{2} = \sqrt{6} \times \sqrt{2} = 2\sqrt{3}$$

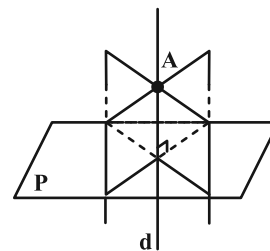
در نتیجه مساحت این سطح مقطع برابر می‌شود با:

$$S = \sqrt{6} \times 2\sqrt{3} = 6\sqrt{2}$$

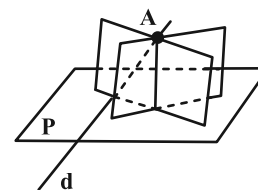
(هنر سه ۱- تبسم فضایی؛ صفحه‌های ۹۲ تا ۹۴)

۴۸- گزینه «۴»

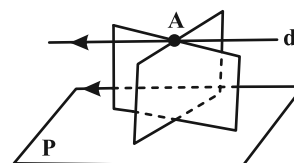
(اسحاق اسفندیار)



گزینه «۱»



گزینه «۲»



گزینه «۳»

طبق شکل‌های رسم شده، هر سه وضعیت می‌تواند رخ بدهد.

(هنر سه ۱- تبسم فضایی؛ صفحه‌های ۷۸ تا ۸۶)



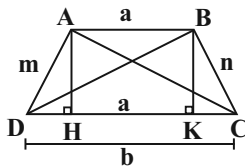
شعاع دایره محیطی مثلث از رابطه زیر به دست می آید:

$$\frac{BC}{\sin \hat{A}} = 2R \Rightarrow \frac{2\sqrt{5}}{2} = 2R \Rightarrow R = \frac{5}{2}$$

(هنر سه ۲- صفحه های ۹۰ تا ۹۷)

(هومن عقیلی)

گزینه «۴» -۵۳



طبق قضیه کسینوسها در مثلث ADC داریم:

$$AC^2 = m^2 + b^2 - 2mb \cos \hat{D} \quad (1)$$

همچنین طبق قضیه کسینوسها در مثلث BDC داریم:

$$BD^2 = n^2 + b^2 - 2nb \cos \hat{C} \quad (2)$$

از جمع کردن تساویهای (۱) و (۲) نتیجه می گیریم:

$$AC^2 + BD^2 = m^2 + n^2 + 2b^2 - 2b(\underbrace{m \cos \hat{D}}_{DH} + \underbrace{n \cos \hat{C}}_{KC})$$

$$\xrightarrow{DH+KC=b-a} AC^2 + BD^2 = m^2 + n^2 + 2b^2 - 2b(b-a)$$

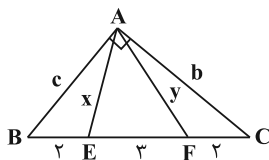
$$\Rightarrow AC^2 + BD^2 = m^2 + n^2 + 2ab$$

(هنر سه ۲- صفحه های ۹۴ تا ۹۶)

(هومن عقیلی)

گزینه «۲» -۵۴

طبق قضیه استوارت در مثلث ABF داریم:



$$2c^2 + 2y^2 = 5(6+x^2) \Rightarrow 2c^2 + 2y^2 = 30 + 5x^2 \quad (1)$$

همچنین طبق قضیه استوارت در مثلث AEC داریم:

$$2b^2 + 2x^2 = 5(6+y^2) \Rightarrow 2b^2 + 2x^2 = 30 + 5y^2 \quad (2)$$

هندسه ۲

گزینه «۱» -۵۱

(فاطمه برزویی)

طبق قضیه کسینوسها داریم:

$$a^2 = b^2 + c^2 - 2bc \cdot \cos \hat{A}$$

$$\Rightarrow a^2 = (\sqrt{2}+1)^2 + (\sqrt{2}-1)^2 - 2(\sqrt{2}+1)(\sqrt{2}-1) \cos 60^\circ$$

$$\Rightarrow a^2 = (3+2\sqrt{2}) + (3-2\sqrt{2}) - 1$$

$$\Rightarrow a^2 = 5 \Rightarrow a = \sqrt{5}$$

سپس با توجه به قضیه سینوسها داریم:

$$\frac{\sin \hat{A}}{a} = \frac{\sin \hat{B}}{b} \Rightarrow \frac{\sqrt{3}}{\sqrt{5}} = \frac{\sin \hat{B}}{\sqrt{2}-1}$$

$$\Rightarrow \sin \hat{B} = \frac{\sqrt{6}-\sqrt{3}}{2\sqrt{5}} = \frac{\sqrt{30}-\sqrt{15}}{10}$$

(هنر سه ۲- صفحه های ۹۰ تا ۹۶)

(امیرحسین ابومصوب)

گزینه «۲» -۵۲

طبق قضیه کسینوسها در مثلث ABC داریم:

$$BC^2 = AB^2 + AC^2 - 2AB \times AC \times \cos \hat{A}$$

$$\Rightarrow 20 = 12 + 2 - 2AB \times AC \times \cos \hat{A} \Rightarrow 2AB \times AC \times \cos \hat{A} = -8$$

$$\Rightarrow \cos \hat{A} = \frac{-4}{AB \times AC} \quad (1)$$

طبق رابطه سینوسی مساحت مثلث داریم:

$$S_{ABC} = \frac{1}{2} AB \times AC \times \sin \hat{A} = 4 \Rightarrow \sin \hat{A} = \frac{8}{AB \times AC} \quad (2)$$

$$(1), (2) \Rightarrow \tan \hat{A} = \frac{8}{-4} = -2$$

$$\frac{1}{\cos^2 \hat{A}} = 1 + \tan^2 \hat{A} = 5 \Rightarrow \cos^2 \hat{A} = \frac{1}{5} \Rightarrow \sin^2 \hat{A} = \frac{4}{5}$$

$$\frac{<\hat{A}<180^\circ}{\sin \hat{A}>0} \rightarrow \sin \hat{A} = \frac{2}{\sqrt{5}}$$



از جمع کردن تساوی‌های (۱) و (۲) نتیجه می‌شود:

$$(1)+(2) \rightarrow 2c^2 + 2b^2 + 2y^2 + 2x^2 = 60 + 5x^2 + 5y^2$$

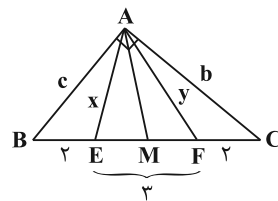
$$b^2 + c^2 = y^2 \rightarrow 3 \times y^2 = 60 + 3x^2 + 3y^2$$

$$\Rightarrow 147 - 60 = 3(x^2 + y^2) \Rightarrow 29 = x^2 + y^2 = AE^2 + AF^2$$

راه حل دوم: در مثلث ABC ، میانه AM را رسم می‌کنیم. چون

$$AEF \text{ با نوشتن قضیه میانه‌ها در مثلث } AEF, \hat{A} = 90^\circ, AM = \frac{BC}{2}$$

خواهیم داشت:



$$AE^2 + AF^2 = \frac{EF^2}{2} + 2AM^2 \xrightarrow{AM = \frac{BC}{2}, EF=3}$$

$$AE^2 + AF^2 = \frac{9}{2} + 2\left(\frac{3}{2}\right)^2 = \frac{9}{2} + \frac{18}{2} = \frac{27}{2} = 29$$

$$\Rightarrow AE^2 + AF^2 = 29$$

(هنر سه ۲- صفحه ۶۷)

ضلع BC (رو به رو به زاویه 120°) بزرگ‌ترین ضلع مثلث است، پس میانه

وارد بر آن کوتاه‌ترین میانه مثلث خواهد بود. حال طبق قضیه میانه‌ها داریم:

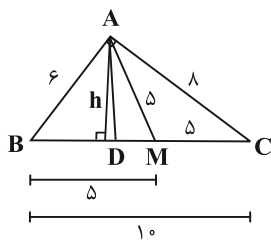
$$AB^2 + AC^2 = 2AM^2 + \frac{BC^2}{2} \Rightarrow 4^2 + 6^2 = 2AM^2 + \frac{7^2}{2}$$

$$\Rightarrow 2AM^2 = 14 \Rightarrow AM^2 = 7 \Rightarrow AM = \sqrt{7}$$

(هنر سه ۲- صفحه ۶۷)

(امیررضا فلاح)

گزینه «۳» -۵۶



اضلاع مثلث اعداد فیثاغورسی هستند، پس مثلث قائم‌الزاویه است.

در مثلث قائم‌الزاویه میانه وارد بر وتر نصف وتر است، پس:

$AM = BM = CM = 5$. همچنین طبق قضیه نیمسازها داریم:

$$AD \text{ نیمساز} \Rightarrow \frac{AB}{AC} = \frac{BD}{CD} \Rightarrow \frac{BD}{CD} = \frac{6}{8} = \frac{3}{4} \Rightarrow \begin{cases} BD = 3k \\ CD = 4k \end{cases}$$

$$\Rightarrow BC = 7k \Rightarrow 10 = 7k \Rightarrow k = \frac{10}{7}$$

$$\Rightarrow BD = \frac{10}{7} \times 3 = \frac{30}{7}$$

$$DM = BM - BD \Rightarrow DM = 5 - \frac{30}{7} = \frac{5}{7}$$

سپس با استفاده از رابطه مساحت در مثلث ABC ، ارتفاع وارد بر وتر

BC را می‌یابیم:

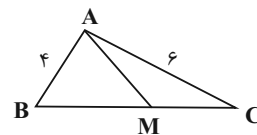
$$S_{ABC} = \frac{1}{2} AB \times AC = \frac{1}{2} BC \times h \Rightarrow 6 \times 8 = 10 \times h \Rightarrow h = \frac{24}{5}$$

در نتیجه داریم:

$$S_{ADM} = \frac{h \times DM}{2} = \frac{\frac{24}{5} \times \frac{5}{7}}{2} = \frac{24}{7} = \frac{12}{7}$$

(هنر سه ۲- صفحه‌های ۶۸ تا ۷۰)

گزینه «۲» -۵۵ (فرزانه فاکپاش)



اگر $\hat{B} + \hat{C} = 60^\circ$ باشد، پس $\hat{A} = 120^\circ$ است. بنابراین ابتدا به کمک

قضیه کسینوس‌ها، طول ضلع BC را پیدا می‌کنیم.

$$BC^2 = AB^2 + AC^2 - 2AB \times AC \times \cos \hat{A}$$

$$\Rightarrow BC^2 = 4^2 + 6^2 - 2 \times 4 \times 6 \times \left(-\frac{1}{2}\right) = 76$$

$$\Delta ABC: AC^2 = BC^2 - AB^2 = 25^2 - 15^2 = 400 \Rightarrow AC = 20$$

مساحت مثلث ADC را با داشتن طول اضلاع آن و به کمک قضیه هرون پیدا می‌کنیم:

$$P_{ADC} = \frac{11+13+20}{2} = 22$$

$$S_{ADC} = \sqrt{22(22-11)(22-13)(22-20)}$$

$$= \sqrt{22 \times 11 \times 9 \times 2} = \sqrt{22^2 \times 3^2} = 22 \times 3 = 66$$

طول ارتفاع DH برابر است با:

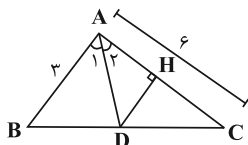
$$S_{ADC} = \frac{1}{2} DH \times AC \Rightarrow 66 = \frac{1}{2} DH \times 20 \Rightarrow DH = 6.6$$

(هنر سه ۲- صفحه‌های ۷۱ و ۷۲)

(فرازانه کاپاش)

۶۰- گزینه «۱»

ابتدا طول نیمساز AD را بر حسب $\cos \hat{A}$ می‌نویسیم:



$$AD = \frac{bc}{b+c} \times 2 \cos \frac{\hat{A}}{2}$$

حال در مثلث قائم‌الزاویه AHD داریم:

$$\sin \hat{A}_2 = \frac{DH}{AD} \Rightarrow DH = AD \times \sin \hat{A}_2$$

$$\frac{\hat{A}_2}{2} = \frac{\hat{A}}{2} \rightarrow DH = AD \cdot \sin \frac{\hat{A}}{2}$$

$$\Rightarrow DH = \frac{bc}{b+c} \times 2 \cos \frac{\hat{A}}{2} \times \sin \frac{\hat{A}}{2} = \frac{3 \times 6}{3+6} \times \frac{3}{4} = \frac{3}{2}$$

(هنر سه ۲- صفحه ۷۴)

۵۷- گزینه «۴»

(سیرمهر شا سینی فرد)

طبق رابطه طول نیمساز داخلی، حاصل BD.CD را به دست می‌آوریم:

$$AD^2 = AB.AC - BD.DC \Rightarrow 3^2 = 3 \times 4 - BD.DC$$

$$\Rightarrow BD.DC = 3$$

طبق روابط طولی در دایره داریم:

$$AD.DM = BD.DC \Rightarrow 3 \times DM = 3 \Rightarrow DM = 1$$

(هنر سه ۲- صفحه‌های ۶۸ تا ۷۰)

۵۸- گزینه «۱»

(امیر حسین ابومصوب)

فرض کنید $a=12$ ، $b=17$ و $c=25$ باشد. طبق قضیه هرون در این

مثلث داریم:

$$P = \frac{12+17+25}{2} = 27$$

$$S = \sqrt{P(P-a)(P-b)(P-c)} = \sqrt{27 \times 15 \times 10 \times 2}$$

$$= \sqrt{3^3 \times (3 \times 5) \times (2 \times 5) \times 2} = \sqrt{2^2 \times 3^4 \times 5^2} = 2 \times 3^2 \times 5 = 90$$

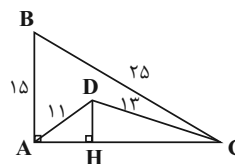
شعاع دایره محاطی داخلی این مثلث برابر است با:

$$r = \frac{S}{P} = \frac{90}{27} = \frac{10}{3}$$

(هنر سه ۲- صفحه‌های ۷۱ و ۷۲)

۵۹- گزینه «۳»

(امیر حسین ابومصوب)



ابتدا به کمک قضیه فیثاغورس، طول ضلع AC را محاسبه می‌کنیم.

$$\Delta AB = 3BC = 75 \Rightarrow \begin{cases} AB = 15 \\ BC = 25 \end{cases}$$



فیزیک ۳

۶۱- گزینه «۴»

(پوریا علاقه‌مند)

با استفاده از معادله داده شده و مقایسه آن با معادله مکان-زمان در حرکت با شتاب ثابت داریم:

$$\begin{cases} x = 2t^2 + 4t + 16 \\ x = \frac{1}{2}at^2 + v_0t + x_0 \end{cases} \Rightarrow \begin{cases} v_0 = 4 \frac{m}{s} \\ a = 4 \Rightarrow a = 4 \frac{m}{s^2} \\ x_0 = 16 m \end{cases}$$

با داشتن سرعت اولیه و ثانویه و نیز شتاب متحرک، با استفاده از معادله سرعت-جابجایی، جابجایی متحرک را به دست می‌آوریم:

$$v_2^2 - v_1^2 = 2a\Delta x \xrightarrow{v_2 = 32 \frac{m}{s}, v_1 = v_0 = 4 \frac{m}{s}, a = 4 \frac{m}{s^2}} 32^2 - 4^2 = 2 \times 4 \times \Delta x$$

$$\Rightarrow 8\Delta x = (32 + 4)(32 - 4) \Rightarrow \Delta x = 126 m$$

(فیزیک ۳- صفحه‌های ۱۵ تا ۱۸)

۶۲- گزینه «۱»

(زهرا آقاممیری)

با توجه به این که معادله داده شده یک معادله درجه ۲ است، حرکت با شتاب ثابت صورت می‌گیرد. ابتدا با مقایسه معادله با معادله حرکت با شتاب ثابت، سرعت اولیه و مکان اولیه متحرک را می‌یابیم:

$$\begin{cases} x = \frac{1}{2}at^2 + v_0t + x_0 \\ x = -2t^2 + 8t + 12 \end{cases} \Rightarrow \begin{cases} \frac{1}{2}a = -2 \Rightarrow a = -4 \frac{m}{s^2} \\ v_0 = 8 \frac{m}{s} \\ x_0 = 12 m \end{cases}$$

چون سرعت اولیه در خلاف جهت شتاب است، پس حرکت متحرک در ابتدا کندشونده است و در نتیجه متحرک تغییر جهت می‌دهد. بنابراین لحظه تغییر جهت حرکت را محاسبه می‌کنیم:

$$v = at + v_0 \xrightarrow{a = -4 \frac{m}{s^2}, v_0 = 8 \frac{m}{s}} v = -4t + 8$$

$$\xrightarrow{v=0} t = 2s \text{ لحظه تغییر جهت حرکت}$$

پس برای محاسبه مسافت طی شده در بازه ۱s تا ۵s، جابجایی‌ها را در بازه ۱s تا ۲s و ۲s تا ۵s محاسبه کرده و اندازه آن‌ها را جمع می‌کنیم:

$$\begin{cases} x_{1s} = -2 \times 1 + 8 \times 1 + 12 = 18 m \\ x_{2s} = -2 \times 4 + 8 \times 2 + 12 = 20 m \\ x_{5s} = -2 \times 25 + 8 \times 5 + 12 = 2 m \end{cases}$$

$$\Rightarrow \begin{cases} \Delta x_1 = x_{2s} - x_{1s} = 20 - 18 = 2 m \\ \Delta x_2 = x_{5s} - x_{2s} = 2 - 20 = -18 m \end{cases}$$

$$\Rightarrow \begin{cases} l_{(1s \text{ تا } 5s)} = |\Delta x_1| + |\Delta x_2| = 2 + 18 = 20 m \\ l_{(1s \text{ تا } 2s)} = |x_1 - x_0| = |18 - 12| = 6 m \end{cases}$$

$$\Rightarrow \frac{l_{(1s \text{ تا } 5s)}}{l_{(1s \text{ تا } 2s)}} = \frac{20}{6} = \frac{10}{3}$$

(فیزیک ۳- صفحه‌های ۱۵ تا ۲۱)

۶۳- گزینه «۴»

(علی بزرگر)

شتاب حرکت با توجه به نمودار همواره مقداری ثابت و منفی است. با توجه به این موضوع، حالات زیر ممکن است رخ دهد:

الف) اگر متحرک با سرعت اولیه مثبت شروع به حرکت کند، آن‌گاه حرکت آن ابتدا کندشونده و پس از توقف و تغییر جهت تندشونده خواهد بود.

ب) اگر متحرک بدون سرعت اولیه شروع به حرکت کند، حرکت آن تندشونده خواهد بود.

پ) اگر متحرک با سرعت اولیه منفی شروع به حرکت کند، در این صورت حرکت آن تندشونده خواهد بود.

لذا نوع حرکت متحرک به سرعت اولیه آن بستگی دارد.

(فیزیک ۳- صفحه‌های ۱۵ تا ۲۱)

۶۴- گزینه «۴»

(امیرامیر میرسعید)

در حرکت با شتاب ثابت، سرعت متوسط از رابطه $v_{av} = \frac{v_1 + v_2}{2}$ به دست می‌آید. بنابراین می‌توان نوشت:

$$v_{av}(fs \text{ تا } 0) = v_{av}(0/5s \text{ تا } 0) + 14 \frac{m}{s} \Rightarrow \frac{v_f + v_0}{2} - \frac{v_0/5 + v_0}{2} = 14$$



در آخر با استفاده از معادله به دست آمده داریم:

$$\begin{cases} t_1 = 0 \text{ s} \Rightarrow v_1 = 10 \frac{\text{m}}{\text{s}} \\ t_2 = 8 \text{ s} \Rightarrow v_2 = -2 \times 8 + 10 = -6 \frac{\text{m}}{\text{s}} \end{cases}$$

$$\Rightarrow v_{av} = \frac{v_1 + v_2}{2} = \frac{10 + (-6)}{2} = 2 \frac{\text{m}}{\text{s}}$$

(فیزیک ۳ - صفحه‌های ۱۵ تا ۲۱)

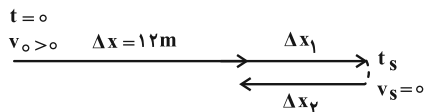
(علیرضا جباری)

گزینه «۲»

ابتدا جابه‌جایی متحرک در ۶ ثانیه اول حرکت را به دست می‌آوریم:

$$v_{av} = \frac{\Delta x}{\Delta t} \xrightarrow{v_{av} = 2 \frac{\text{m}}{\text{s}}, \Delta t = 6 \text{ s}} 2 = \frac{\Delta x}{6} \Rightarrow \Delta x = 12 \text{ m}$$

در حرکت بر روی خط راست، وقتی در یک بازه زمانی معین، مسافت طی شده (ℓ) و جابه‌جایی متحرک (Δx) با هم برابر نیستند، یعنی متحرک در یک لحظه مانند t_s متوقف شده و جهت حرکت آن تغییر کرده است. با توجه به این که در لحظه $t = 0$ جهت حرکت در سوی مثبت محور x بوده است، داریم:



$$\Delta x_1 = \frac{\ell - \Delta x}{2} = \frac{13 - 12}{2} = 0.5 \text{ m}$$

$$\Delta x_2 = -\Delta x_1 = -0.5 \text{ m}$$

با استفاده از رابطه مستقل از سرعت اولیه می‌توان نوشت:

$$\Delta x + \Delta x_1 = -\frac{1}{2} a t_s^2 + v_s t \xrightarrow{\Delta x = 12 \text{ m}, \Delta x_1 = 0.5 \text{ m}, v_s = 0}$$

$$12.5 = -\frac{1}{2} a t_s^2 \quad (A)$$

همچنین با توجه به معادله جابه‌جایی داریم:

$$\Delta x_2 = \frac{1}{2} a (t - t_s)^2 + v_s (t - t_s) \xrightarrow{\Delta x_2 = -0.5 \text{ m}, t = 6 \text{ s}, v_s = 0}$$

$$-0.5 = \frac{1}{2} a (6 - t_s)^2 \quad (B)$$

$$\frac{v_0 = 10 \frac{\text{m}}{\text{s}}}{2} \rightarrow \frac{v_2 + 10}{2} - \frac{v_0/5 + 10}{2} = 14$$

$$\Rightarrow v_2 + 10 - v_0/5 - 10 = 28 \Rightarrow v_2 - v_0/5 = 28 \frac{\text{m}}{\text{s}}$$

در گام بعدی از رابطه شتاب متوسط استفاده می‌کنیم، دقت کنید چون شتاب ثابت است، شتاب متوسط برابر با شتاب متحرک در هر لحظه است:

$$a = \frac{\Delta v}{\Delta t} = \frac{v_2 - v_0/5}{4 - 0/5} = \frac{28}{3/5} = 8 \frac{\text{m}}{\text{s}^2}$$

(فیزیک ۳ - صفحه‌های ۱۵ تا ۲۱)

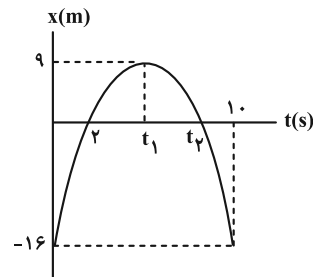
(سین الهی)

گزینه «۴»

ابتدا با توجه به تقارن سهمی، لحظات t_1 و t_2 را می‌یابیم، دقت کنید چون نمودار مکان-زمان به صورت سهمی است، حرکت جسم با شتاب ثابت است.

$$t_1 = \frac{0 + 10}{2} = 5 \text{ s}$$

$$t_1 = \frac{2 + t_2}{2} \xrightarrow{t_1 = 5 \text{ s}} 5 = \frac{2 + t_2}{2} \Rightarrow t_2 = 8 \text{ s}$$



اکنون با استفاده از بازه زمانی $t = 0 \text{ s}$ تا $t = 5 \text{ s}$ و جابه‌جایی متحرک در آن، سرعت اولیه متحرک را می‌یابیم:

$$\Delta x = \frac{v_1 + v_2}{2} \Delta t \xrightarrow{\Delta x = x_2 - x_1 = 9 - (-16) = 25 \text{ m}, \Delta t = 5 \text{ s}, v_2 = 0, v_1 = v_0} 25 = \frac{v_0 + 0}{2} \times 5$$

$$\Rightarrow v_0 = 10 \frac{\text{m}}{\text{s}}$$

در این قسمت، شتاب حرکت و به دنبال آن معادله سرعت-زمان متحرک را پیدا می‌کنیم:

$$v = at + v_0 \xrightarrow{t = 5 \text{ s}, v = 0, v_0 = 10 \frac{\text{m}}{\text{s}}} 0 = 5a + 10 \Rightarrow a = -2 \frac{\text{m}}{\text{s}^2}$$

$$\Rightarrow v = -2t + 10$$



$$x = \frac{1}{2}at^2 + v_0t + x_0 \begin{cases} v_{0A} = -12 \frac{m}{s} \rightarrow x_A = \frac{1}{2} \times 4t^2 + (-12)t + 3 \\ \Rightarrow x_A = 2t^2 - 12t + 3 \\ v_{0B} = 0 \rightarrow x_B = \frac{1}{2}(1)t^2 + 0 + 3 \\ \Rightarrow x_B = \frac{1}{2}t^2 + 3 \end{cases}$$

اکنون می‌توانیم فاصله دو متحرک از یکدیگر را در لحظه $t = 6s$ پیدا کنیم:

$$|x_B - x_A| = \left| \frac{1}{2}t^2 + 3 - (2t^2 - 12t + 3) \right| = \left| -\frac{3}{2}t^2 + 12t \right|$$

$$\xrightarrow{t=6s} |x_B - x_A| = \left| -\frac{3}{2}(6)^2 + 12 \times 6 \right|$$

$$= |-54 + 72| = 18 \text{ m}$$

(فیزیک ۳ - صفحه‌های ۱۵ تا ۲۱)

(معمراکظم منشاری)

۶۸ - گزینه «۳»

مسافتی را که متحرک از لحظه ترمز گرفتن تا توقف کامل می‌پیماید، با استفاده از معادله سرعت - جابه‌جایی می‌یابیم:

$$v_2^2 - v_1^2 = 2a\Delta x \xrightarrow{\substack{v_1 = 10 \frac{km}{h} = 3 \frac{m}{s} \\ v_2 = 0, a = -10 \frac{m}{s^2}}} 0 - (3)^2 = 2(-10)\Delta x$$

$$\Rightarrow \Delta x = 45 \text{ m}$$

(فیزیک ۳ - صفحه‌های ۱۵ تا ۲۱)

(زهرا آقاممردی)

۶۹ - گزینه «۴»

ابتدا معادله مکان - زمان دو متحرک را می‌یابیم. توجه کنید که حرکت متحرک A با سرعت ثابت و حرکت متحرک B با شتاب ثابت است؛ زیرا نمودار سرعت - زمان B به صورت خط راست شیبدار و نمودار A به صورت خط افقی است.

$$\begin{cases} a_B = \frac{\Delta v}{\Delta t} = \frac{20 - (-20)}{\Delta} = 8 \frac{m}{s^2} \\ v_{0B} = -20 \frac{m}{s} \\ x_{0B} = 0 \end{cases} \Rightarrow x_B = \frac{1}{2}at^2 + v_0t + x_0 \Rightarrow x_B = 4t^2 - 20t$$

$$\begin{cases} v_A = 20 \frac{m}{s} \\ x_{0A} = 0 \end{cases} \Rightarrow x_A = vt + x_0 \Rightarrow x_A = 20t$$

روابط A و B را بر هم تقسیم می‌کنیم تا لحظه توقف را به دست آوریم:

$$\frac{12/5}{-0/5} = \frac{-\frac{1}{2}at_s^2}{\frac{1}{2}a(6-t_s)^2} \Rightarrow 25 = \frac{t_s^2}{(6-t_s)^2}$$

$$\Rightarrow 5 = \frac{t_s}{6-t_s} \Rightarrow t_s = 5s$$

اکنون می‌توانیم شتاب حرکت را حساب کنیم:

$$12/5 = -\frac{1}{2}at_s^2 \xrightarrow{t_s=5s} 12/5 = -\frac{1}{2}a(5^2) \Rightarrow a = -1 \frac{m}{s^2}$$

همچنین سرعت اولیه متحرک را نیز پیدا می‌کنیم:

$$v_s = at_s + v_0 \xrightarrow{\substack{v_s = 0, a = -1 \frac{m}{s^2} \\ t_s = 5s}} 0 = -1 \times 5 + v_0$$

$$\Rightarrow v_0 = 5 \frac{m}{s}$$

در پایان تندی متحرک را در لحظه $t = 3s$ حساب می‌کنیم:

$$v = at + v_0 \xrightarrow{\substack{a = -1 \frac{m}{s^2}, t = 3s \\ v_0 = 5 \frac{m}{s}}} v = -1 \times 3 + 5 = 2 \frac{m}{s}$$

$$\Rightarrow s = |v| = 2 \frac{m}{s}$$

(فیزیک ۳ - صفحه‌های ۱۵ تا ۲۱)

(علیرضا جباری)

۶۷ - گزینه «۲»

ابتدا شتاب هر یک از دو متحرک را به دست می‌آوریم:

$$a_A = \frac{\Delta v_A}{\Delta t} = \frac{4 - (-12)}{4 - 0} = \frac{16}{4} = 4 \frac{m}{s^2}$$

$$a_B = \frac{\Delta v_B}{\Delta t} = \frac{4 - 0}{4 - 0} = 1 \frac{m}{s^2}$$

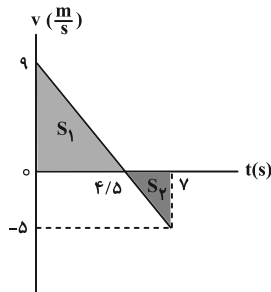
از آنجا که نمودار سرعت - زمان هر دو متحرک به صورت خط راست است،

حرکت هر دو با شتاب ثابت است. معادله مکان - زمان هر یک از آن دو را

می‌نویسیم:

برای محاسبه مسافتی که متحرک در مدت ۷ ثانیه طی می کند، کافی است نمودار سرعت- زمان متحرک را رسم کرده و اندازه سطح زیر نمودار را در مدت ۷ ثانیه محاسبه کنیم که برای این منظور ابتدا باید معادله سرعت- زمان متحرک را بنویسیم:

$$v = at + v_0 \quad \begin{matrix} a = -\frac{2}{5} \frac{m}{s^2} \\ v_0 = 9 \frac{m}{s} \end{matrix} \Rightarrow v = -2t + 9$$



$$v = 0 \Rightarrow 0 = -2t + 9 \Rightarrow t = 4.5s$$

$$t = 7s \Rightarrow v = -2 \times 7 + 9 = -5 \frac{m}{s}$$

$$l = |S_1| + |S_2| = \frac{9 \times 4.5}{2} + \frac{2.5 \times 5}{2} = \frac{81}{4} + \frac{25}{4}$$

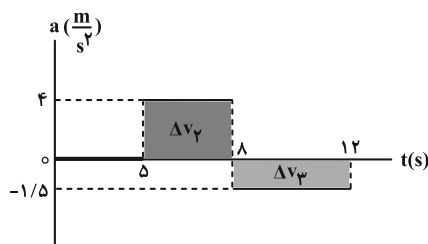
$$\Rightarrow l = 26.5m$$

(فیزیک ۳- صفحه های ۱۵ تا ۲۱)

(علیرضا جباری)

۷۱- گزینه «۴»

در نمودار شتاب- زمان، مساحت سطح محدود بین این نمودار و محور زمان در هر بازه زمانی، برابر با تغییر سرعت (Δv) در آن بازه زمانی است. برای سطحی که بالای محور زمان است، $\Delta v > 0$ و برای سطحی که زیر محور زمان است، $\Delta v < 0$ در نظر گرفته می شود.



$$\Delta v_1 = 0$$

$$\Delta v_2 = 4(8-0) = 32 \frac{m}{s}$$

در لحظه ای که دو متحرک به هم می رسند، $x_A = x_B$ است:

$$x_A = x_B \Rightarrow 2 \cdot t = 4t^2 - 2 \cdot t \Rightarrow 4 \cdot t = 4t^2 \Rightarrow t = 1 \cdot s$$

توجه کنید چون متحرک B تغییر جهت داده است، مسافت طی شده با اندازه جابه جایی برابر نیست، بنابراین اندازه جابه جایی آن را تا لحظه تغییر جهت و پس از آن محاسبه می کنیم. ابتدا لحظه تغییر جهت حرکت را به دست می آوریم:

$$v_B = at + v_0 = 8t - 2 \cdot 0 \xrightarrow{v=0} 8t - 2 \cdot 0 = 0 \Rightarrow t = 2/5s$$

$$0 \leq t \leq 2/5s \Rightarrow \Delta x_1 = \frac{1}{2} at^2 + v_0 t$$

$$= \frac{1}{2} \times 8 \times (2/5)^2 - 2 \cdot 0 \times 2/5 = -25m$$

$$2/5s < t \leq 1 \cdot s \Rightarrow \Delta x_2 = \frac{1}{2} at^2 = \frac{1}{2} \times 8 \times (1 \cdot 0 - 2/5)^2 = 225m$$

توجه کنید که سرعت اولیه بازه $2/5s$ تا $1 \cdot s$ برابر صفر است. (چون سرعت در لحظه $2/5s$ برابر صفر است). بنابراین مسافت طی شده برابر است با:

$$l = |\Delta x_1| + |\Delta x_2| = 250m$$

$$s_{av} = \frac{l}{\Delta t} = \frac{250}{1 \cdot 0} = 25 \frac{m}{s}$$

(فیزیک ۳- صفحه های ۱۳ تا ۲۱)

(مهران اسماعیلی)

۷۰- گزینه «۳»

۳ ثانیه دوم حرکت شتابدار متحرک مربوط به بازه زمانی $t_1 = 3s$ تا $t_2 = 6s$ است. چون جابه جایی متحرک در این بازه برابر صفر است، می توان نتیجه گرفت مکان- زمان متحرک در لحظات t_1 و t_2 یکسان است. با توجه به معادله مکان- زمان متحرک داریم:

$$\frac{1}{2} at_1^2 + v_0 t_1 + x_0 = \frac{1}{2} at_2^2 + v_0 t_2 + x_0 \quad \begin{matrix} t_1 = 3s, t_2 = 6s \\ v_0 = 9 \frac{m}{s} \end{matrix}$$

$$\frac{1}{2} a \times 3^2 + 9 \times 3 + x_0 = \frac{1}{2} a \times 6^2 + 9 \times 6 + x_0$$

$$\frac{9}{2} a + 27 = 18a + 54 \Rightarrow \frac{27}{2} a = -27 \Rightarrow a = -2 \frac{m}{s^2}$$



$$v_1^2 - 16 = 2(2)(6) \xrightarrow{v_1 > 0} v_1 = \sqrt{40} \frac{m}{s}$$

سپس سرعت متحرک را در مکان $x = 10 \text{ m}$ به دست می‌آوریم:

$$v_1^2 - v_1^2 = 2a_1 \Delta x_1 \xrightarrow{v_1 = \sqrt{40} \frac{m}{s}} a_1 = -\frac{4m}{s^2}, \Delta x_1 = 4 \text{ m}$$

$$v_1^2 - 40 = 2(-4)(4) \xrightarrow{v_1 > 0} v_1 = \sqrt{8} \frac{m}{s}$$

و در نهایت، مکان تغییر جهت حرکت متحرک (x) به صورت زیر به دست می‌آید:

$$v_1^2 - v_1^2 = 2a_1 \Delta x_1 \xrightarrow{v_1 = 0} a_1 = -1 \frac{m}{s^2}, v_1 = \sqrt{8} \frac{m}{s}$$

$$0 - 8 = 2(-1)(x - 10) \Rightarrow x = 14 \text{ m}$$

دقت کنید در مکان‌های $x = 6 \text{ m}$ و $x = 10 \text{ m}$ ، با توجه به نمودار، متحرک در حال حرکت در جهت محور x است. به همین دلیل فقط مقادیر مثبت سرعت را پذیرفتیم.

(فیزیک ۳ - صفحه‌های ۱۵ تا ۲۱)

۷۳ - گزینه «۱» (مسعود فذرانی)

در سقوط آزاد که نوعی حرکت شتابدار با شتاب ثابت g است، شتاب متوسط همواره برابر با g است.

(فیزیک ۳ - صفحه‌های ۲۱ تا ۲۴)

۷۴ - گزینه «۱» (مسین الهی)

ابتدا لحظه‌ای را که سنگ با سطح آب رودخانه برخورد می‌کند، مشخص می‌کنیم:

$$\Delta y = -\frac{1}{2}gt^2 \Rightarrow -10 = -5t^2 \Rightarrow t^2 = 2 \Rightarrow t = \sqrt{2} = 1/\sqrt{2} = \frac{1}{\sqrt{2}} \text{ s}$$

برای محاسبه زمان رسیدن صدای برخورد تا شخص داریم:

$$\Delta y = v \times \Delta t \Rightarrow 10 = 300 \times \Delta t \Rightarrow \Delta t = \frac{10}{300} = \frac{1}{30} \text{ s}$$

بنابراین زمان خواسته شده برابر است با:

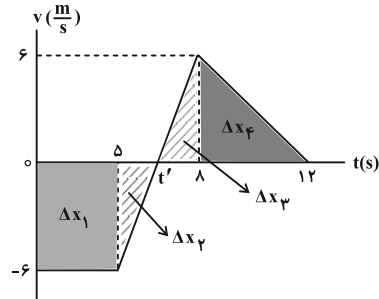
$$\Rightarrow \Delta t_{\text{کل}} = \frac{1}{\sqrt{2}} + \frac{1}{30} = \frac{42+1}{30} = \frac{43}{30} \text{ s}$$

(فیزیک ۳ - صفحه‌های ۲۱ تا ۲۴)

$$\Delta v_3 = -1/5(12 - 8) = -6 \frac{m}{s}$$

بر این اساس و با توجه به این که $v_0 = -6 \frac{m}{s}$ است، نمودار سرعت-زمان

متحرک را در ۱۲ ثانیه اول حرکت رسم می‌کنیم. با توجه به نمودار داریم:



$$t' = \frac{5+8}{2} = 6/5 \text{ s}$$

مساحت سطح بین نمودار سرعت-زمان و محور زمان در هر بازه زمانی، برابر با جابه‌جایی متحرک در آن بازه است.

$$\Delta x_1 = -6(5-0) = -30 \text{ m}$$

$$\Delta x_2 = \frac{(6/5 - 5)(-6)}{2} = -4/5 \text{ m}$$

$$\Delta x_3 = \frac{(8 - 6/5)6}{2} = 4/5 \text{ m}$$

$$\Delta x_4 = \frac{(12 - 8)6}{2} = 12 \text{ m}$$

در پایان، جابه‌جایی متحرک در ۱۲ ثانیه اول و سرعت متوسط آن را حساب می‌کنیم:

$$\Delta x = \Delta x_1 + \Delta x_2 + \Delta x_3 + \Delta x_4 = -30 - 4/5 + 4/5 + 12 = -18 \text{ m}$$

$$v_{av} = \frac{\Delta x}{\Delta t} = \frac{-18}{12-0} = -1/5 \frac{m}{s} \Rightarrow \vec{v}_{av} = (-1/5 \frac{m}{s}) \vec{i}$$

(فیزیک ۳ - صفحه‌های ۱۵ تا ۲۱)

۷۲ - گزینه «۳» (مجتبی نگوئیان)

ابتدا با استفاده از رابطه سرعت-جابه‌جایی در حرکت با شتاب ثابت، سرعت متحرک را در مکان $x = 6 \text{ m}$ به دست می‌آوریم:

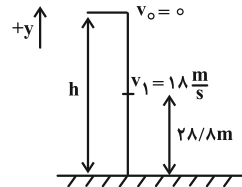
$$v_1^2 - v_0^2 = 2a_1 \Delta x_1 \xrightarrow{a_1 = 2 \frac{m}{s^2}, \Delta x_1 = 6 \text{ m}, v_0 = 4 \frac{m}{s}}$$



۷۵- گزینه «۱»

(امیراعمر میرسعید)

با توجه به چشم‌پوشی از مقاومت هوا، حرکت متحرک از نوع سقوط آزاد است و اندازه شتاب آن برابر با g است. رابطه سرعت- جابه‌جایی را نوشته و سرعت سنگ هنگام برخورد به زمین را محاسبه می‌کنیم:



$$v_2^2 - v_1^2 = -2g\Delta y$$

$$v_2^2 - 324 = -2 \times (+10) \times (-28/\lambda) \Rightarrow v_2 = -30 \frac{m}{s}$$

در گام بعدی برای محاسبه زمان کل حرکت، از رابطه $v = -gt$ استفاده می‌کنیم:

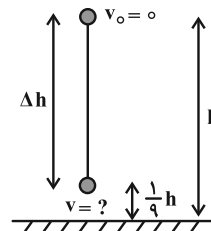
$$v_2 = -10 \times t \Rightarrow -30 = -10t \Rightarrow t = 3s$$

(فیزیک ۳- صفحه‌های ۲۱ تا ۲۴)

۷۶- گزینه «۴»

(سیاوش خارس)

با صرف نظر از مقاومت هوا، می‌توان حرکت جسم را به صورت سقوط آزاد در نظر گرفت. با فرض این‌که جهت مثبت محور رو به بالا باشد، داریم:



$$v^2 - v_0^2 = -2g\Delta y$$

$$v_0 = 0, \Delta y = -\frac{1}{9}h \rightarrow v^2 = -2g \times -\frac{1}{9}h \Rightarrow v^2 = \frac{16}{9}gh$$

چون جهت محور را بالا در نظر گرفتیم و جسم رو به پایین حرکت می‌کند، $v < 0$ است:

$$v = -\frac{4}{3}\sqrt{gh} \Rightarrow s = |v| = \frac{4}{3}\sqrt{gh}$$

(فیزیک ۳- صفحه‌های ۲۱ تا ۲۴)

۷۷- گزینه «۴»

(زهرا آقاممیری)

فرض می‌کنیم جهت مثبت محور رو به بالا باشد، از آنجا که در سقوط آزاد تغییر جهت نداریم، در هر بازه زمانی تندی متوسط با اندازه سرعت متوسط برابر است. چون جسم رو به پایین حرکت می‌کند، داریم:

$$|v_{av}| = 25 \frac{m}{s} \Rightarrow v_{av} = -25 \frac{m}{s}$$

اگر سرعت جسم در لحظه برخورد را v و در ۳ ثانیه قبل از آن را v_0 در نظر بگیریم، می‌توان نوشت:

$$a = \frac{\Delta v}{\Delta t} = \frac{a = -g = -10 \frac{m}{s^2}}{\Delta v = v - v_0, \Delta t = 3 - 0 = 3s} \rightarrow -10 = \frac{v - v_0}{3}$$

$$\Rightarrow v_0 = v + 30 \frac{m}{s}$$

در آخر داریم:

$$s_{av} = 25 \frac{m}{s} \xrightarrow{v_{av} < 0} \text{تغییر جهت نداریم} \rightarrow v_{av} = -25 \frac{m}{s}$$

$$v_{av} = \frac{v + v_0}{2} = \frac{v + v + 30}{2} \xrightarrow{v_{av} = -25 \frac{m}{s}} -25 = \frac{v + v + 30}{2}$$

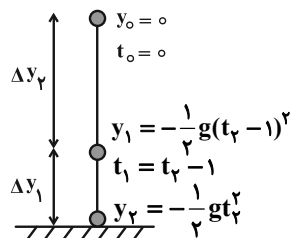
$$\Rightarrow v = -40 \frac{m}{s} \Rightarrow s = |v| = 40 \frac{m}{s}$$

(فیزیک ۳- صفحه‌های ۲۱ تا ۲۴)

۷۸- گزینه «۱»

(بوزار آزارفر)

جهت مثبت محور را رو به بالا و محل رها شدن گلوله را مبدأ مکان در نظر می‌گیریم. با توجه به این نکات، معادله مکان- زمان گلوله را نوشته و جابه‌جایی آن را در بازه‌های زمانی خواسته شده به دست می‌آوریم:



$$y = -\frac{1}{2}gt^2 \Rightarrow \begin{cases} t_1 = t_r - 1 \rightarrow y_1 = -\frac{1}{2}g(t_r - 1)^2 \\ t = t_r \rightarrow y_r = -\frac{1}{2}gt_r^2 \end{cases}$$



$$\Rightarrow +15t - 11/25 = 41/25$$

$$\Rightarrow 15t = 52/5 \Rightarrow t = \frac{52/5}{15} = 3/5s$$

بنابراین داریم:

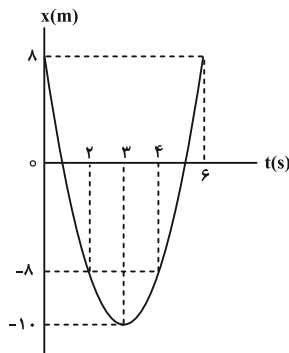
$$\Rightarrow t_A = 3/5s, \quad t_B = t_A - 1/5 = 3/5 - 1/5 = 2/5s$$

(فیزیک ۳ - صفحه‌های ۲۱ تا ۲۴)

(سراسری ریاضی - اردیبهشت ۱۴۰۳)

۸۰. گزینه «۳»

با استفاده از معادله مکان-زمان، معادله سرعت-زمان را به دست می‌آوریم و لحظه تغییر جهت را می‌یابیم:



$$\begin{cases} x = \frac{1}{2}at^2 + v_0t + x_0 \\ x = 2t^2 - 12t + 8 \end{cases}$$

$$\frac{a = \frac{m}{s^2}}{v_0 = -12 \frac{m}{s}} \rightarrow v = 4t - 12 \xrightarrow{v=0} t = 3s \quad (\text{لحظه تغییر جهت})$$

$$\Rightarrow x = 2 \times 9 - 12 \times 3 + 8 = -10m$$

$$x = -8 \Rightarrow 2t^2 - 12t + 16 = 0 \Rightarrow \begin{cases} t = 2s \\ t = 4s \end{cases}$$

طبق نمودار مکان-زمان، در بازه زمانی صفر تا ۲s و ۴s تا ۶s فاصله متحرک از مبدأ محور کمتر یا مساوی ۸ متر می‌باشد.

$$\Delta t_{\text{کل}} = 2s + (6-4)s = 4s$$

(فیزیک ۳ - صفحه‌های ۱۵ تا ۲۱)

$$\begin{cases} t_T - 1 \text{ تا } 0: \Delta y_1 = y_1 - y_0 = -\frac{1}{2}g(t_T - 1)^2 - 0 \\ = -\frac{1}{2}g(t_T - 1)^2 \quad (1) \\ t_T \text{ تا } t_T - 1: \Delta y_2 = y_2 - y_1 = -\frac{1}{2}gt_T^2 - \left(-\frac{1}{2}g(t_T - 1)^2\right) \\ = -\frac{1}{2}gt_T^2 + \frac{1}{2}g(t_T - 1)^2 \quad (2) \end{cases}$$

$$\frac{\Delta y_2}{\Delta y_1} = \frac{9}{16} \xrightarrow{(1), (2)} \frac{-\frac{1}{2}gt_T^2 + \frac{1}{2}g(t_T - 1)^2}{-\frac{1}{2}g(t_T - 1)^2} = \frac{9}{16}$$

$$\Rightarrow 16t_T^2 - 16(t_T - 1)^2 = 9(t_T - 1)^2 \Rightarrow 16t_T^2 = 25(t_T - 1)^2$$

$$\Rightarrow 4t_T = 5t_T - 5 \Rightarrow t_T = 5s$$

در آخر، با استفاده از معادله سرعت-زمان، سرعت متحرک را به دست می‌آوریم:

$$v = -gt \xrightarrow{g = 9.8 \frac{N}{kg}, t = 5s} v = -49 \frac{m}{s} \Rightarrow s = |v| = 49 \frac{m}{s}$$

(فیزیک ۳ - صفحه‌های ۲۱ تا ۲۴)

۷۹. گزینه «۳» (علیرضا بیاری)

اگر زمان سقوط گلوله A در این سوال را با t نشان دهیم، زمان سقوط گلوله B برابر با $t - 1/5s$ خواهد بود. بر این اساس، نقطه رها شدن گلوله‌ها را به عنوان مبدأ مکان در نظر گرفته و معادله مکان هر یک از آنها را می‌نویسیم: ($y_0 = 0$)

$$y_A = -\frac{1}{2}gt_A^2 \xrightarrow{t_A = t, g = 10 \frac{m}{s^2}} y_A = -5t^2$$

$$y_B = -\frac{1}{2}gt_B^2 \xrightarrow{t_B = t - 1/5s, g = 10 \frac{m}{s^2}} y_B = -5(t - 1/5)^2$$

اکنون فاصله دو گلوله از یکدیگر را برابر با $41/25m$ قرار می‌دهیم و

$$y_B - y_A = 41/25m$$

را به دست می‌آوریم:

$$\Rightarrow -5(t - 1/5)^2 - (-5t^2) = 41/25$$

$$\Rightarrow -5(t^2 - 3t + 2/25) + 5t^2 = 41/25$$



فیزیک ۱

گزینه ۴

(علیرضا جباری)

رابطه انرژی جنبشی برای این جسم را در هر دو حالت می‌نویسیم و آن‌ها را از هم کم می‌کنیم تا v_1 به دست آید:

$$K = \frac{1}{2}mv^2 \Rightarrow K_2 - K_1 = \frac{1}{2}mv_2^2 - \frac{1}{2}mv_1^2$$

$$K_2 = K_1 + 15 \Rightarrow K_1 + 15 - K_1 = \frac{1}{2}m(v_2^2 - v_1^2)$$

$$\frac{v_2 = v_1 + 3}{m = 50 \cdot g = \frac{1}{2}kg} \rightarrow 15 = \frac{1}{2} \times \frac{1}{2} [(v_1 + 3)^2 - v_1^2]$$

$$\Rightarrow 60 = v_1^2 + 6v_1 + 9 - v_1^2 \Rightarrow 60 = 6v_1 + 9$$

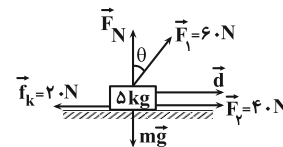
$$\Rightarrow 51 = 6v_1 \Rightarrow v_1 = \frac{51}{6} = 8.5 \frac{m}{s}$$

(فیزیک ۱- صفحه‌های ۵۳ و ۵۵)

گزینه ۲

(امیراحمد میرسعید)

مجموع کار همه نیروهای وارد بر جسم برابر با 680 ژول است، پس می‌توان نوشت:



$$W_{کل} = W_{F_1} + W_{F_2} + W_{f_k} + W_{mg} + W_{F_N} \xrightarrow{W_{mg} = 0, W_{F_N} = 0}$$

$$680 = F_1 \times d \times \cos(90^\circ - \theta) + F_2 \times d \times \cos \theta + f_k \times d \times \cos 180^\circ$$

$$680 = 60 \times 10 \times \cos(90^\circ - \theta) + 40 \times 10 \times 1 + 20 \times 10 \times (-1)$$

$$480 = 600 \cos(90^\circ - \theta) \Rightarrow \cos(90^\circ - \theta) = 0.8$$

$$90^\circ - \theta = 37^\circ \Rightarrow \theta = 53^\circ$$

(فیزیک ۱- صفحه‌های ۵۵ تا ۶۰)

گزینه ۴

(ممدکرم منشاری)

نیروی عمودی سطح، در هر لحظه بر جابه‌جایی جسم عمود است. بنابراین

$$\theta = 90^\circ \text{ بوده و خواهیم داشت:}$$

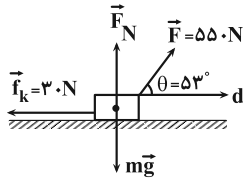
$$W = Fd \cos \theta \xrightarrow{\theta = 90^\circ} W = Fd \cos 90^\circ = Fd \times 0 = 0$$

(فیزیک ۱- صفحه‌های ۵۵ تا ۶۰)

گزینه ۳

(سیاوش فارسی)

طبق قضیه کار و انرژی جنبشی، کار کل انجام شده بر جسم، برابر با تغییر انرژی جنبشی آن است. همچنین کار کل، برابر با مجموع کار تک تک نیروها است. حال داریم:



$$\Delta K = W_t = W_{f_k} + W_F + W_{F_N} + W_{mg}$$

$$\xrightarrow{W_{F_N} = W_{mg} = 0} \Rightarrow \Delta K = W_{f_k} + W_F$$

$$\xrightarrow{W = Fd \cos \theta} \Delta K = f_k d \cos \alpha + Fd \cos \theta$$

$$\xrightarrow{f_k = 30 \cdot N, F = 550 \cdot N, d = 20 \cdot m} \alpha = 180^\circ, \theta = 53^\circ$$

$$\Delta K = 30 \cdot (20) \cdot (\cos 180^\circ) + 550 \cdot (20) \cdot (\cos 53^\circ) \Rightarrow \Delta K = 6000 \cdot J$$

حال با داشتن تغییر انرژی جنبشی، سرعت ثانویه جسم را به دست می‌آوریم:

$$K = \frac{1}{2}mv^2 \Rightarrow \Delta K = \frac{1}{2}m(v_2^2 - v_1^2)$$

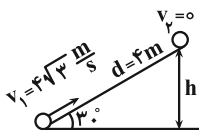
$$\xrightarrow{m = 20 \cdot kg, v_1 = 0, \Delta K = 6000 \cdot J} 6000 = \frac{1}{2} \times 20 \times v_2^2 \Rightarrow v_2 = 20 \frac{m}{s}$$

(فیزیک ۱- صفحه‌های ۵۵ تا ۶۳)

گزینه ۱

(زهرا آقاممیری)

ابتدا ارتفاع گلوله در لحظه توقف را محاسبه می‌کنیم:



$$\sin 30^\circ = \frac{h}{d} \Rightarrow \frac{1}{2} = \frac{h}{4} \Rightarrow h = 2m$$

با استفاده از قضیه کار-انرژی جنبشی، داریم:

$$W_t = K_2 - K_1 \Rightarrow W_{mg} + W_{f_k} = -\frac{1}{2}mv_1^2$$

چون جسم بالا می‌رود کار نیروی وزن بر روی جسم برابر $W_{mg} = -mgh$ است. از طرفی نیروی اصطکاک خلاف جهت جابه‌جایی است. بنابراین داریم:

$$-mgh + f_k d \cos 180^\circ = -\frac{1}{2}mv_1^2 \Rightarrow mgh + f_k d = \frac{1}{2}mv_1^2$$

$$\xrightarrow{m = 1 \cdot kg, v_1 = 4\sqrt{3} \frac{m}{s}} \xrightarrow{h = 2 \cdot m, d = 4 \cdot m, g = 10 \frac{N}{kg}}$$

$$1 \times 10 \times 2 + f_k \times 4 = \frac{1}{2} \times 1 \times 48 \Rightarrow f_k = 1N$$

(فیزیک ۱- صفحه‌های ۶۱ تا ۶۸)



۸۶- گزینه «۱»

(پوریا علاقه مند)

می‌دانیم در نبود نیروهای اتلافی، انرژی مکانیکی جسم بایسته است. یعنی انرژی مکانیکی در سطح زمین برابر با انرژی مکانیکی جسم در نصف ارتفاع اوج است. بنابراین انرژی مکانیکی جسم در سطح زمین را حساب می‌کنیم:

$$E_{\text{سطح زمین}} = K + U \xrightarrow{h \Rightarrow U=0} E_{\text{سطح زمین}} = K = \frac{1}{2}mv^2$$

$$E_{\text{سطح زمین}} = \frac{1}{2} \times 8 \times (20)^2 = 4 \times 400 = 1600 \text{ J}$$

$$\Rightarrow E_{\text{اوج}} = E_{\text{سطح زمین}} = 1600 \text{ J}$$

(فیزیک ۱- صفحه‌های ۶۳ تا ۷۰)

۸۷- گزینه «۱»

(مهم مقرر)

انرژی جنبشی اولیه جسم برابر است با:

$$K_1 = \frac{1}{2}mv_1^2 \xrightarrow{v_1 = \frac{m}{s}} K_1 = \frac{1}{2}m \times 8^2 = 32 \text{ m}$$

بعد از آن که جسم روی سطح بالا رفت و متوقف شد، فقط دارای انرژی پتانسیل گرانشی می‌باشد. در این حالت داریم:

$$h_{\text{max}} = \ell \sin 53^\circ \Rightarrow h_{\text{max}} = 3 \times \sin 53^\circ = 2 / 4 \text{ m}$$

$$E_p = U_p = mgh_p \Rightarrow U_p = m \times 10 \times 2 / 4 = 24 \text{ m}$$

انرژی تلف شده برابر اختلاف انرژی مکانیکی اولیه و ثانویه است.

$$E_p - E_1 = U_p - K_1$$

$$\Rightarrow \text{اتلاف انرژی} = 24 \text{ m} - 32 \text{ m} = -8 \text{ m}$$

درصد اتلاف انرژی نیز از رابطه زیر قابل محاسبه است:

$$\text{درصد اتلاف انرژی} = \frac{-8 \text{ m}}{32 \text{ m}} \times 100 = -25\%$$

که علامت منفی نشان‌دهنده هدررفت انرژی است.

(فیزیک ۱- صفحه‌های ۶۳ تا ۷۰)

۸۸- گزینه «۲»

(مسام ناری)

می‌دانیم بازده یک سامانه به صورت نسبت کار خروجی به کار ورودی تعریف می‌شود، پس داریم: (η نماد بازده است).

$$\eta_1 = \frac{W_1}{W'} \times 100 = 60 \Rightarrow W_1 = 0.6 W'$$

$$\eta_2 = \frac{W_2}{W_1} \times 100 = 20 \Rightarrow W_2 = 0.2 W_1$$

$$\eta_3 = \frac{W_3}{W_2} \times 100 = 10 \Rightarrow W_3 = 0.1 W_2$$

$$\Rightarrow \eta = \frac{W_3}{W'} \times 100 = \frac{0.1 \times 0.2 \times 0.6 W'}{W'} \times 100 = 1.2\%$$

(فیزیک ۱- صفحه‌های ۷۵ و ۷۶)

۸۹- گزینه «۲»

(مسام ناری)

به بررسی تمام موارد می‌پردازیم:

(الف) درست؛ اگر کار برآیند نیروهای وارد بر جسمی صفر باشد، می‌توان گفت زاویه بین بردار غیر صفر برآیند نیروها و بردار جابه‌جایی 90° بوده است که $\cos 90^\circ = 0$ می‌باشد. بنابراین این گزاره الزاماً درست است.

(ب) نادرست؛ اگر کار کل وارد بر یک جسم صفر باشد، انرژی جنبشی آغازین و پایانی جسم یکسان بوده است و این بدین معناست که تندی آغازین و پایانی جسم نیز یکسان است. توجه شود که سرعت کمیت برداری است و می‌تواند تغییر جهت دهد اما اندازه آن ثابت بماند.

(پ) درست؛ اگر انرژی جنبشی جسمی در ابتدا و انتهای مسیر حرکتش یکسان باشد، کار برآیند نیروهای وارد بر آن در این مسیر صفر است:

$$W_{F_{\text{net}}} = \Delta K = K_f - K_i = 0$$

(ت) درست؛ نیروی عمودی سطح در هر لحظه بر جابه‌جایی جسم عمود است، بنابراین $\theta = 90^\circ$ بوده و داریم:

$$W = F_N d \cos \theta \xrightarrow{\theta=90^\circ} W = F_N d \cos 90^\circ = 0$$

(فیزیک ۱- صفحه‌های ۵۵ تا ۶۰)

۹۰- گزینه «۲»

(مسام ناری)

ابتدا توان مفید موتور آسانسور که ناشی از کار آن برای غلبه بر نیروی گرانش است را حساب می‌کنیم:

$$W_t = \Delta K \xrightarrow{\text{تندی ثابت است}} W_{\text{موتور}} + W_{\text{mg}} = 0$$

$$\Rightarrow W_{\text{موتور}} = -W_{\text{mg}} = -(-mgh) = mgh$$

$$P_{\text{av}} = \frac{W_{\text{موتور}}}{t} = \frac{mgh}{t} \xrightarrow{m=460+4 \times 60=700 \text{ kg}, h=24 \text{ m}, t=20 \text{ s}}$$

$$P_{\text{av}} = \frac{700 \times 10 \times 24}{20} = 8400 \text{ W}$$

$$\text{بازده} = \frac{P_{\text{مفید}}}{P_{\text{مصرفی}}} \Rightarrow \frac{4}{5} = \frac{8400}{P_{\text{مصرفی}}}$$

$$\Rightarrow P_{\text{مصرفی}} = 10500 \text{ W} = 10.5 \text{ kW}$$

(فیزیک ۱- صفحه‌های ۶۱ تا ۶۸ و ۷۳ تا ۷۷)



فیزیک ۲

گزینه «۱» - ۹۱

(علیرضا جباری)

اختلاف پتانسیل دو سر باتری برابر است با:

$$V = RI \xrightarrow{I = \frac{\epsilon}{R+r}} V = \frac{R\epsilon}{R+r}$$

حال رابطه $V = \frac{R\epsilon}{R+r}$ را در دو حالت می‌نویسیم و آن‌ها را بر یکدیگر

$$\frac{V_1}{V_2} = \frac{\frac{R_1\epsilon}{R_1+r}}{\frac{R_2\epsilon}{R_2+r}} = \frac{R_1(R_2+r)}{R_2(R_1+r)}$$

تقسیم می‌کنیم:

$$\frac{V_1=15V, V_2=16V, r=1\Omega}{R_1=R_2+2\Omega} \rightarrow \frac{16}{15} = \frac{(R_1+3)(R_1+1)}{R_1(R_1+3+1)}$$

$$\Rightarrow \frac{16}{15} = \frac{R_1^2 + 4R_1 + 3}{R_1^2 + 4R_1}$$

$$\Rightarrow 16R_1^2 + 64R_1 = 15R_1^2 + 60R_1 + 45$$

$$\Rightarrow R_1^2 + 4R_1 - 45 = 0 \Rightarrow (R_1 - 5)(R_1 + 9) = 0$$

$$\Rightarrow \begin{cases} R_1 = 5\Omega & \text{ق ق} \\ R_1 = -9\Omega & \text{غ ق} \end{cases}$$

اکنون می‌توانیم با معلوم بودن R_1 ، نیروی محرکه باتری (ϵ) را به دست آوریم:

$$V_1 = \frac{R_1\epsilon}{R_1+r} \xrightarrow{V_1=15V, R_1=5\Omega, r=1\Omega}$$

$$15 = \frac{5\epsilon}{5+1} \Rightarrow \epsilon = 18V$$

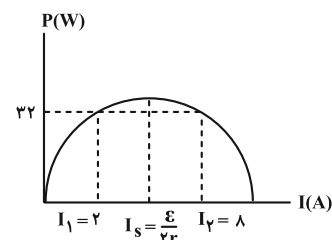
(فیزیک ۲ - صفحه‌های ۶۱ تا ۶۶)

گزینه «۱» - ۹۲

(بوزاد آزادفر)

با توجه به رابطه توان خروجی باتری که درجه دوم است و با استفاده از روابط

رأس سهمی و قضیه تقارن در سهمی‌ها، داریم:



$$P = \epsilon I - rI^2 \Rightarrow I_s = -\frac{b}{2a} = \frac{\epsilon}{2r}$$

$$I_s = \frac{I_1 + I_2}{2} \Rightarrow I_s = \frac{10}{2} = 5A$$

$$\Rightarrow \frac{\epsilon}{2r} = 5 \Rightarrow \epsilon = 10r$$

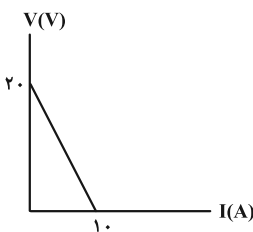
از طرفی به ازای جریان $2A$ ، توان مفید برابر با $32W$ است:

$$P = \epsilon I - rI^2 \Rightarrow 32 = \epsilon \times 2 - r \times (2)^2$$

$$\Rightarrow 32 = 20r - 4r \Rightarrow r = 2\Omega$$

$$\epsilon = 10r \xrightarrow{r=2\Omega} \epsilon = 20V$$

$$V = \epsilon - Ir \Rightarrow V = 20 - 2I$$

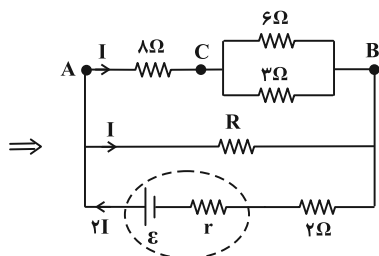
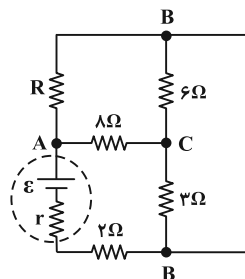


(فیزیک ۲ - صفحه‌های ۶۳ تا ۷۰)

گزینه «۴» - ۹۳

(زهرا آقاممدری)

ابتدا با نام‌گذاری نقاط هم‌پتانسیل، مدار را ساده می‌کنیم:



چون جریان عبوری از مقاومت‌های 8Ω و R یکسان است، پس مقاومت

معادل سه مقاومت 6Ω ، 3Ω و 2Ω برابر با R است. بنابراین داریم:

(مقاومت‌های 6Ω و 3Ω موازی و معادل آن‌ها با 8Ω سری است.)



$$\frac{4\mathcal{E}}{7R} - I' = \frac{2\mathcal{E}}{7R} + I' \Rightarrow 2I' = \frac{2\mathcal{E}}{7R} \Rightarrow I' = \frac{\mathcal{E}}{7R}$$

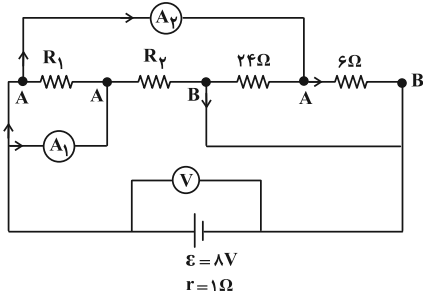
پس آمپرسنج A، جریان $I' = \frac{\mathcal{E}}{7R}$ را نشان می‌دهد.

(فیزیک ۲ - صفحه‌های ۷۰ تا ۷۱)

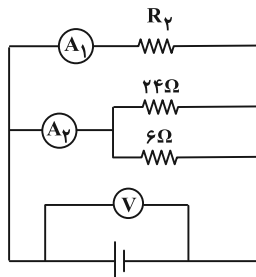
(سیرمدر علی موسوی)

۹۵ - گزینه «۴»

با توجه به شکل، هر سه مقاومت 6Ω ، 24Ω و R_2 بین دو نقطه A و B قرار دارند. بنابراین با هم موازی هستند و R_1 به واسطه قرار گرفتن بین دو نقطه یکسان A، اتصال کوتاه می‌شود.



ساده شده مدار و توزیع جریان آن به شکل زیر است:



طبق قاعده انشعاب تمام جریان عبوری از مدار برابر با مجموع جریان عبوری

$$I = 0 + 25 + 1 + 75 = 2A$$

از آمپرسنج ۱ و ۲ است.

ولت‌سنج آرمانی اختلاف پتانسیل دو سر باتری را نشان می‌دهد، بنابراین از

$$\text{رابطه } V = \mathcal{E} - Ir \text{ داریم:}$$

$$V = \mathcal{E} - Ir = 8 - (2)(1) = 6V$$

(فیزیک ۲ - صفحه‌های ۶۴ و ۷۰ تا ۷۱)

(علی بزرگر)

۹۶ - گزینه «۴»

در حالت اول که کلید k باز است، مقاومت R_4 از مدار خارج است و باقی

مقاومت‌ها به صورت متوالی به یکدیگر بسته شده‌اند. لذا داریم:

$$R = 8 + \frac{6 \times 3}{6 + 3} = 8 + \frac{18}{9} = 10\Omega$$

از طرفی طبق قاعده انشعاب، جریان عبوری از مقاومت 2Ω و باتری، برابر

۲I است. بنابراین نسبت توان مصرفی مقاومت R به توان مصرفی مقاومت

۲ اهمی برابر است با:

$$P = RI^2 \Rightarrow \frac{P_2}{P_1} = \frac{R_2}{R_1} \times \left(\frac{I_2}{I_1}\right)^2 = \frac{10}{2} \times \left(\frac{I}{2I}\right)^2 = \frac{5}{4}$$

(فیزیک ۲ - صفحه‌های ۶۷ تا ۷۷)

(پوریا علاقه‌مند)

۹۴ - گزینه «۳»

ابتدا مقاومت کل مدار را به دست می‌آوریم. مقاومت‌های R_1 و R_2 موازی

و مقاومت‌های R_3 و R_4 نیز موازی‌اند. همچنین مقاومت معادل R_1 و

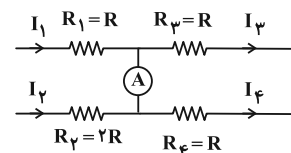
R_2 با مقاومت معادل R_3 و R_4 به صورت سری است:

$$R_{eq} = \frac{R_1 R_2}{R_1 + R_2} + \frac{R_3 R_4}{R_3 + R_4} = \frac{2R \times R}{2R + R} + \frac{R \times R}{R + R} = \frac{7}{6}R$$

اکنون می‌توان جریان کل مدار را به دست آورد:

$$I = \frac{\mathcal{E}}{R_{eq} + r} \xrightarrow{r=0, R_{eq}=\frac{7}{6}R} I = \frac{\mathcal{E}}{\frac{7}{6}R} = \frac{6\mathcal{E}}{7R}$$

حال تمام جریان‌های I_1 تا I_4 را برحسب $I = \frac{6\mathcal{E}}{7R}$ به دست می‌آوریم:



$$\begin{cases} I_1 + I_2 = \frac{6\mathcal{E}}{7R} \Rightarrow I_1 = \frac{4\mathcal{E}}{7R}, I_2 = \frac{2\mathcal{E}}{7R} \\ RI_1 = 2RI_2 \end{cases}$$

$$\begin{cases} I_3 + I_4 = \frac{6\mathcal{E}}{7R} \Rightarrow I_3 = \frac{2\mathcal{E}}{7R}, I_4 = \frac{2\mathcal{E}}{7R} \\ RI_3 = RI_4 \end{cases}$$

با توجه به عددهای به دست آمده برای جریان‌ها، باید مقداری جریان از سیم

حاوی آمپرسنج به امتداد جریان I_4 اضافه شود تا جریان‌های I_3 و I_4

برابر شوند. اگر این مقدار جریان را I' در نظر بگیریم، خواهیم داشت:

$$I_3 = I_4 \Rightarrow I_1 - I' = I_2 + I' \xrightarrow{I_1 = \frac{4\mathcal{E}}{7R}, I_2 = \frac{2\mathcal{E}}{7R}}$$



بنابراین تغییر توان مقاومت R_p برابر است با:

$$\Rightarrow P'_p - P_p = \frac{4}{5} - \frac{5}{4} = \frac{16 - 25}{20} = -\frac{9}{20} \text{ W} = -0.45 \text{ W}$$

بنابراین توان مصرفی مقاومت R_p ، ۰/۴۵ وات کاهش می‌یابد.

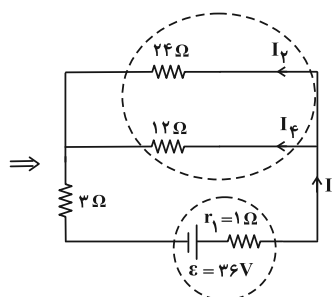
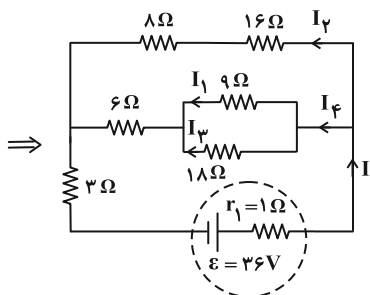
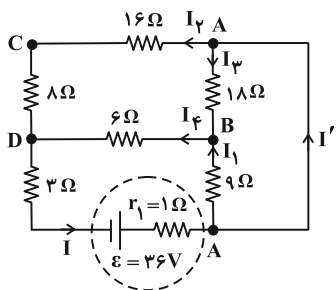
(فیزیک ۲ - صفحه‌های ۶۷ تا ۷۸)

(میشی نکوتیان)

۹۷ - گزینه «۳»

ابتدا مدار را به شکل ساده‌تری رسم می‌کنیم تا متوالی یا موازی بودن

مقاومت‌های مدار را تشخیص دهیم:

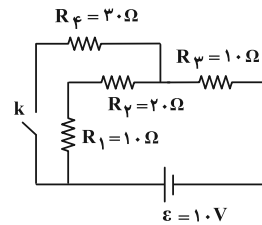


حال جریان کل مدار را به دست می‌آوریم:

$$R_{eq} = 11\Omega \Rightarrow I = \frac{\epsilon}{R_{eq} + r} \Rightarrow I = \frac{36}{11 + 1} = 3 \text{ A}$$

وقتی دو مقاومت به‌طور موازی به یکدیگر وصل شوند، نسبت شدت جریان

آنها برابر نسبت وارون مقاومت آنها است. پس:

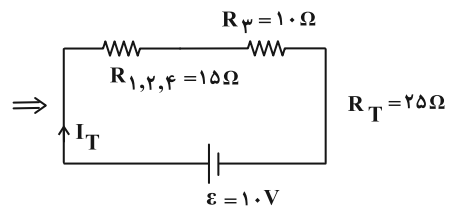
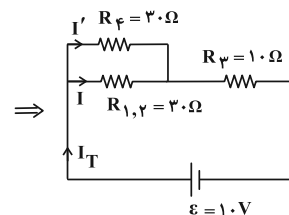
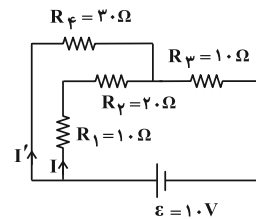


$$R_T = R_1 + R_p + R_p = 1.0 + 2.0 + 1.0 = 4.0\Omega$$

$$I_1 = I_p = I_{\psi} = I_T = \frac{V}{R_T} = \frac{1.0}{4.0} = \frac{1}{4} \text{ A}$$

$$\frac{I_p = \frac{1}{4} \text{ A}}{R_p = 2.0\Omega} \rightarrow P_p = R_p I_p^2 = 2.0 \times \left(\frac{1}{4}\right)^2 = \frac{2.0}{16} = \frac{5}{4} \text{ W}$$

بعد از بسته شدن کلید k ، ابتدا باید مقاومت معادل مدار را به دست آوریم:



حال جریان کل و جریان مقاومت R_p را به دست می‌آوریم:

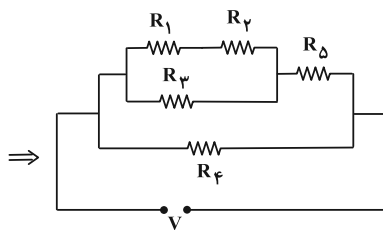
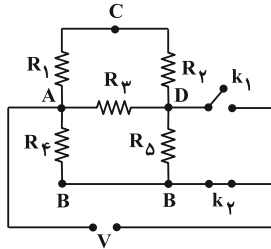
$$I_T = \frac{V}{R_T} = \frac{V = \epsilon = 1.0 \text{ V}}{R_T = 2.5\Omega} \rightarrow I_T = \frac{1.0}{2.5} = \frac{2}{5} \text{ A}$$

$$\frac{R_p = R_{1,p}}{I_p = I + I'} \rightarrow I = I' \Rightarrow I_T = 2I = \frac{2}{5} \text{ A} \Rightarrow I = \frac{1}{5} \text{ A}$$

$$\Rightarrow P'_p = R_p I^2 = 2.0 \times \left(\frac{1}{5}\right)^2 = \frac{2.0}{25} = \frac{4}{5} \text{ W}$$

$$P_1 = \frac{V^2}{R_{eq1}} \xrightarrow{R_{eq1}=1\Omega} P_1 = V^2$$

در حالت دوم نیز مانند حالت اول داریم:



در این حالت برای به دست آوردن مقاومت معادل، ابتدا مقاومت معادل

شاخه بالا را به دست می‌آوریم:

$$R_{1,2,3,5} = \frac{(R_1 + R_2)(R_3)}{R_1 + R_2 + R_3} + R_5 = \frac{(2+2)(2)}{6} + 2 = \frac{10}{3} \Omega$$

و در نهایت:

$$R_{eq2} = \frac{R_{1,2,3,5} \times R_6}{R_{1,2,3,5} + R_6} = \frac{\frac{10}{3} \times 2}{\frac{10}{3} + 2} = \frac{\frac{20}{3}}{\frac{16}{3}} = \frac{5}{4} \Omega$$

$$P_2 = \frac{V^2}{R_{eq2}} \xrightarrow{R_{eq2}=\frac{5}{4}\Omega} P_2 = \frac{4}{5} V^2$$

$$\frac{P_1}{P_2} = \frac{V^2}{\frac{4}{5} V^2} = \frac{5}{4}$$

حال داریم:

هنگامی که هر دو کلید باز باشند، هیچ جریانی از مدار عبور نمی‌کند. بنابراین

توان مصرفی هر یک از مقاومت‌ها صفر بوده و مجموع آن‌ها نیز صفر است. در

آخر می‌توان نوشت:

$$\frac{5}{4} - 0 = \frac{5}{4}$$

(فیزیک ۲- صفحه‌های ۶۷ تا ۷۸)

$$\begin{cases} \frac{I_f}{I_2} = \frac{24}{12} = 2 \\ I = I_2 + I_f = 3A \end{cases} \Rightarrow \begin{cases} I_2 = 1A \\ I_f = 2A \end{cases}$$

سهم هر کدام از مقاومت‌های 9Ω و 18Ω را از جریان $2A$ به دست می‌آوریم:

$$\begin{cases} \frac{I_1}{I_3} = \frac{18}{9} = 2 \\ I_f = I_1 + I_3 = 2A \end{cases} \Rightarrow \begin{cases} I_1 = \frac{4}{3} A \\ I_3 = \frac{2}{3} A \end{cases}$$

و در نهایت جریان I' را با توجه به قاعده انشعاب به دست می‌آوریم:

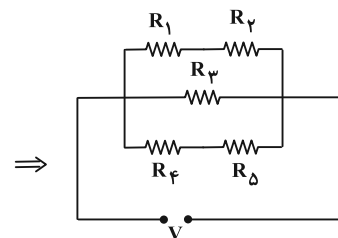
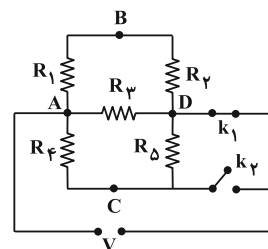
$$I = I_1 + I' \Rightarrow 3 = \frac{4}{3} + I' \Rightarrow I' = \frac{5}{3} A$$

(فیزیک ۲- صفحه‌های ۷۰ تا ۷۸)

(ممدکاتم منشاری)

۹۸- گزینه «۱»

ابتدا مدار در حالت اول را ساده کرده و مقاومت معادل آن را به دست می‌آوریم:



با توجه به مدار ساده، مقاومت معادل برابر است:

$$\frac{1}{R_{eq1}} = \frac{1}{R_{1,2}} + \frac{1}{R_3} + \frac{1}{R_{4,5}}$$

$$\xrightarrow{R_{1,2}=R_1+R_2=4\Omega, R_3=2\Omega, R_{4,5}=R_4+R_5=4\Omega} \frac{1}{R_{eq1}} = \frac{1}{4} + \frac{1}{2} + \frac{1}{4}$$

$$\Rightarrow R_{eq1} = 1\Omega$$

طبق قانون پایستگی انرژی، مجموع توان مصرفی تمام مقاومت‌ها با توان

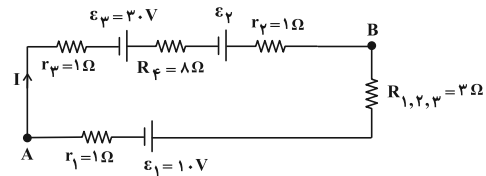
مصرفی مقاومت معادل آن‌ها برابر است:



۹۹- گزینه «۱»

(مسعود شذرانی)

از رابطه $V_B - V_A = 18V$ نتیجه می شود $V_B > V_A$ و به دنبال آن جریان الکتریکی در مدار ساعتگرد است. ابتدا برای به دست آوردن I کل و \mathcal{E}_φ مدار را ساده کرده و به جای مقاومت R_1 ، R_φ و R_ψ معادل آن ها را قرار می دهیم:



$$\frac{1}{R_{1,2,3}} = \frac{1}{R_1} + \frac{1}{R_\psi} + \frac{1}{R_\varphi} \rightarrow R_{1,2,3} = 3\Omega$$

در حالت اول، به صورت پادساعتگرد از A تا B می رویم تا I کل به دست آید:

$$V_A + I r_1 + \mathcal{E}_1 + I R_{1,2,3} = V_B \rightarrow \mathcal{E}_1 = 1.0V, V_B - V_A = 18V$$

$$4I + 1.0 = 18 \Rightarrow I = 2A$$

بار دیگر، به صورت ساعتگرد از A به B می رویم تا \mathcal{E}_φ به دست آید:

$$V_A - r_\varphi I + \mathcal{E}_\varphi - R_\varphi I + \mathcal{E}_\psi - r_\psi I = V_B$$

$$\mathcal{E}_\varphi = 3.0V, I = 2A, V_B - V_A = 18V \rightarrow r_\varphi = 1\Omega, r_\psi = 1\Omega, R_\varphi = 8\Omega$$

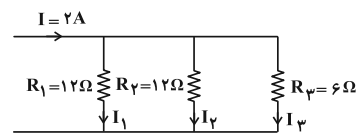
$$3.0 + \mathcal{E}_\varphi - 2 - 16 - 2 = 18 \Rightarrow \mathcal{E}_\varphi = 18V$$

چون باتری \mathcal{E}_φ در جهت جریان قرار دارد و آن را تأمین می کند، توان آن از

$$P = \mathcal{E}I - rI^2 \text{ به دست می آید:}$$

$$P = \mathcal{E}I - rI^2 \rightarrow \frac{I=2A, r=1\Omega}{\mathcal{E}_\varphi=18V} \rightarrow P = 2(18) - 4(1) = 12W$$

اکنون جریان I_ψ را به دست می آوریم:



$$I_1 + I_\psi + I_\phi = I = 2A \quad (1)$$

$$R_1 I_1 = R_\psi I_\psi \rightarrow \frac{R_\psi = 6\Omega}{R_1 = 12\Omega} \rightarrow I_1 = \frac{1}{2} I_\psi \quad (2)$$

$$R_\psi I_\psi = R_\phi I_\phi \rightarrow \frac{R_\psi = 6\Omega}{R_\phi = 12\Omega} \rightarrow I_\psi = \frac{1}{2} I_\phi \quad (3)$$

$$(1), (2), (3) \rightarrow 2I_\psi = 2A \Rightarrow I_\psi = 1A$$

(فیزیک ۲- صفحه های ۶۷ تا ۷۸)

۱۰۰- گزینه «۳»

(مسام تاری)

ابتدا اختلاف پتانسیل دو سر هر یک از لامپ ها را قبل و بعد از بستن کلید k محاسبه می کنیم. (توجه کنید که دو مقاومت (لامپ) B و C با یکدیگر موازیند و معادلشان با لامپ A به صورت سری متصل شده است.)

$$k \text{ قبل از بستن کلید } \Rightarrow \begin{cases} R_{B,C} = \frac{R}{2} \\ R_A = R \end{cases} \rightarrow V = RI, I_A = I_{B,C} \rightarrow V_A = 2V_{B,C}$$

$$V_{\text{کل}} = V_A + V_{B,C} \xrightarrow{V_{\text{کل}} = \mathcal{E}} \begin{cases} V_A = \frac{2\mathcal{E}}{3} \\ V_{B,C} = \frac{\mathcal{E}}{3} \text{ موازی C و B} \\ V_B = V_C = \frac{\mathcal{E}}{3} \end{cases}$$

\Rightarrow بعد از بستن کلید k

$\Rightarrow V_B = V_C = 0$ اتصال کوتاه می شوند C و B لامپ های

$$V_{\text{کل}} = V_A + V_{B,C} \xrightarrow{\frac{V_{\text{کل}} = \mathcal{E}}{V_{B,C} = 0}} V_A = \mathcal{E}$$

حال درصد تغییر پتانسیل الکتریکی هر یک لامپ ها را در این دو حالت محاسبه

می کنیم:

$$B \text{ لامپ: } \frac{\Delta V_B}{V_B} \times 100 = \frac{0 - \frac{\mathcal{E}}{3}}{\frac{\mathcal{E}}{3}} \times 100 = -100\%$$

$$C \text{ لامپ: } \frac{\Delta V_C}{V_C} \times 100 = \frac{0 - \frac{\mathcal{E}}{3}}{\frac{\mathcal{E}}{3}} \times 100 = -100\%$$

$$A \text{ لامپ: } \frac{\Delta V_A}{V_A} \times 100 = \frac{\mathcal{E} - \frac{2}{3}\mathcal{E}}{\frac{2}{3}\mathcal{E}} \times 100 = +50\%$$

با توجه به اعداد به دست آمده، موارد (ب) و (ت) درست هستند.

(فیزیک ۲- صفحه های ۷۰ تا ۷۸)



شیمی ۳

گزینه «۲» ۱۰۱-

(عمید زبئی)

بررسی گزینه‌های نادرست:

۱) رسانایی الکتریکی محلول‌های الکترولیت به غلظت اولیه الکترولیت نیز بستگی دارد. همچنین می‌دانیم که HCl اسید قوی و HF اسیدی ضعیف می‌باشد ولی میزان یون تفکیک شده HCl و HF وابسته به غلظت اولیه آن‌ها است.

۳) برای مثال رسانایی الکتریکی محلول یک مولار NaCl و Na_2SO_4 در دمای یکسان با هم برابر نیست.

۴) در ساختار NaCl(s)، یون‌ها آزادی حرکت ندارند.

(شیمی ۳- صفحه‌های ۱۶ تا ۱۸)

گزینه «۴» ۱۰۲-

(سعید تیزرو)

با توجه به مقادیر ثابت یونش در جدول صفحه ۲۳ کتاب درسی هیدروکلریک اسید قوی‌تر از نیتریک اسید است. در شرایط یکسان هر چه یک اسید قوی‌تر باشد، قطعاً غلظت یون هیدرونیوم در محلول آن بیشتر خواهد بود.

بررسی برخی گزینه‌ها:

فرمول کربوکسیلیک اسیدها با R سیر شده به صورت $\text{C}_n\text{H}_{2n}\text{O}_2$

می‌باشد و نسبت تعداد کربن به هیدروژن در آن‌ها همواره برابر $\frac{1}{2}$ می‌باشد.

(شیمی ۳- صفحه‌های ۲۰ تا ۲۴)

گزینه «۴» ۱۰۳-

(محمدرضا یمشیری)

با توجه به رابطه $K_a = \frac{[\text{H}^+]^2}{M - [\text{H}^+]}$ ، بین K_a و غلظت اسید (M).

رابطه مستقیمی وجود ندارد و K_a فقط به دما وابسته است.

(شیمی ۳- صفحه‌های ۲۰ تا ۲۴)

گزینه «۳» ۱۰۴-

(مهمر عظیمیان زواره)

عبارت‌های (پ)، (ت) و (ث) درست می‌باشند.

بررسی برخی از عبارت‌ها:

الف) سرانجام مقدار واکنش دهنده‌ها و فراورده‌ها ثابت می‌شود ولی لزوماً با هم برابر نمی‌شود.

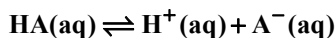
ب) HNO_3 (نیتریک اسید) یک اسید قوی است و واکنش یونش آن تعادلی نمی‌باشد.

پ) ثابت تعادل (K) یک واکنش تعادلی فقط تابع دما است.

ت) در باران معمولی H_2CO_3 و در باران اسیدی که فقط H_2SO_4 پروتونه است در باران اسیدی اسیدهای قوی HNO_3 و H_2SO_4 وجود دارند.

ث) زیرا در شرایط یکسان قدرت اسیدی استیک اسید از فورمیک اسید کمتر است و هر چه قدرت اسیدی کمتر باشد، در شرایط یکسان، مجموع شمار یون‌ها و مولکول‌ها کمتر است.

مجموع غلظت یون‌ها و مولکول‌های یک اسید ضعیف:



غلظت اولیه : M - -

غلظت ثانویه : M - M α M α M α

$$\Rightarrow (M - M\alpha) + M\alpha + M\alpha = M + M\alpha$$

(شیمی ۳- صفحه‌های ۱۸ تا ۲۴)

گزینه «۴» ۱۰۵-

(یاسر راش)

ابتدا ثابت یونش و درجه یونش اسید فرضی HA را قبل از رقیق شدن

حساب می‌کنیم:

$$\begin{cases} \alpha_{\text{HA}} = \frac{2}{2+8} = 0.2, \\ M_{\text{HA}} = \frac{n}{V} = \frac{10 \times 0.03}{0.6} = 0.5 \text{ mol} \cdot \text{L}^{-1} \\ K_a = \frac{\alpha^2 M}{1-\alpha} = \frac{(0.2)^2 \times 0.5}{1-0.2} = \frac{1}{40} \text{ mol} \cdot \text{L}^{-1} \end{cases}$$



حال برای محاسبه غلظت یون هیدرونیوم در محلول حاصل از مخلوط آن‌ها

$$[H^+]_{\text{نهایی}} = \frac{\text{mol } H^+}{\text{حجم کل محلول}} \quad \text{داریم:}$$

$$= \frac{2 \times 10^{-4} \text{ mol} \cdot L^{-1} \times 0.02 L + 2 \times 10^{-5} \text{ mol} \cdot L^{-1} \times 0.03 L}{(0.02 + 0.03) L}$$

$$= 9/2 \times 10^{-5} \text{ mol} \cdot L^{-1}$$

برای محاسبه pH محلول داریم:

$$pH = -\log[H^+]$$

$$pH = -\log(9/2 \times 10^{-5})$$

$$pH = -(\log 9 + \log 10^{-5}) = -(\log 9 + \log 10^{-5})$$

$$= (-2) \times 0.48 + 5 = 4.04 \approx 4$$

توجه: مقدار عددی $\log 9/2$ با $\log 9$ اختلاف بسیار کمی دارد، پس به

جای $\log 9/2$ ، $\log 9$ را محاسبه می‌کنیم.

(شیمی ۳- صفحه‌های ۲۴، ۲۵ و ۳۳ تا ۳۶)

(روزبه رضوانی)

۱۰۸- گزینه «۱»

$$pH \text{ لوله بازکن} = 13/4 \Rightarrow [H^+] = 10^{-13/4} = 10^{-3.25} \approx 10^{-3.25} \times 10^{-14}$$

$$= 4 \times 10^{-14} \text{ mol} \cdot L^{-1}$$

$$pH \text{ شیشه پاک‌کن} = 10/7 \Rightarrow [H^+] = 10^{-10/7} = 10^{-1.43} \approx 10^{-1.43} \times 10^{-11}$$

$$= 2 \times 10^{-11} \text{ mol} \cdot L^{-1}$$

محلول لوله‌بازکن pH بزرگ‌تری دارد و از طرفی محلول لوله‌بازکن باز

قوی NaOH است ولی در شیشه‌پاک‌کن NH_3 وجود دارد که یک باز

ضعیف است.

$$\frac{[H^+]_{\text{لوله بازکن}}}{[H^+]_{\text{شیشه پاک‌کن}}} = \frac{4 \times 10^{-14}}{2 \times 10^{-11}} = 0.002$$

(شیمی ۳- صفحه‌های ۲۴ تا ۲۹)

با افزایش صد در صدی α ، مقدار آن به 0.4 می‌رسد. از آنجا که دما

ثابت است، K_a بدون تغییر باقی می‌ماند. بنابراین در محلول رقیق داریم:

$$\alpha_{HA} = 0.4 \Rightarrow K_a = \frac{(0.4)^2 \times M_{HA}}{1 - 0.4} = \frac{1}{40}$$

$$\Rightarrow M_{HA} = \frac{3}{32} \text{ mol} \cdot L^{-1}$$

بنابراین در محلول رقیق غلظت محلول به $\frac{3}{32}$ مولار می‌رسد. با توجه به

رابطه $M_1 V_1 = M_2 V_2$ می‌توان نوشت:

$$0.5 \times 600 = \frac{3}{32} \times V_2 \Rightarrow V_2 = 3200 \text{ mL}$$

$$\Rightarrow \text{حجم آب مقطر افزوده شده} = 3200 - 600 = 2600 \text{ mL}$$

(شیمی ۳- صفحه‌های ۱۸ تا ۲۲ و ۳۳ تا ۳۶)

(امیرمدر گلگرانی)

۱۰۶- گزینه «۲»

بررسی گزینه‌های نادرست:

(۱) پاک‌کننده‌های خورنده ممکن است اسیدی یا بازی باشند و pH کمتر

یا بیشتر از ۷ داشته باشند.

(۳) رسوب‌های چربی دارای خاصیت اسیدی هستند و در اثر واکنش با بازها

فرآورده‌های محلول در آب تولید می‌کنند.

(۴) گاز هیدروژن ایجاد شده با ایجاد فشار فیزیکی، قدرت پاک‌کنندگی را

افزایش می‌دهد.

(شیمی ۳- صفحه‌های ۱۲، ۱۳ و ۲۸ تا ۳۲)

(مسن مینونی)

۱۰۷- گزینه «۲»

برای حل سؤال ابتدا باید غلظت یون هیدرونیوم را در هر دو محلول اولیه

محاسبه کنیم:

$$\begin{cases} HA \text{ در } [H^+] = 10^{-3.7} \\ \Rightarrow [H^+] = 10^{0.3} \times 10^{-4} = 2 \times 10^{-4} \text{ mol} \cdot L^{-1} \\ HB \text{ در } [H^+] = 10^{-4.7} = 10^{0.3} \times 10^{-5} = 2 \times 10^{-5} \text{ mol} \cdot L^{-1} \end{cases}$$



۱۰۹ - گزینه «۲»

(فرضیه مرادی)

$$\text{pH} = 1/5 \Rightarrow [\text{H}^+] = 10^{-\text{pH}} = 10^{-1/5} = 10^{-2} \times 10^{0/5}$$

$$= 3 \times 10^{-2} \text{ mol.L}^{-1}$$

$$\text{pH} = 2/7 \Rightarrow [\text{H}^+] = 10^{-\text{pH}} = 10^{-2/7} = 10^{-3} \times 10^{0/7}$$

$$= 2 \times 10^{-3} \text{ mol.L}^{-1}$$

$$0/3 - 0/002 = 0/28 \text{ mol.L}^{-1} \xrightarrow{\times 0/5L} 0/14 \text{ mol H}^+$$

$$\sim 0/14 \text{ mol HCl}$$

$$0/14 \text{ mol HCl} \times \frac{1 \text{ mol NaHCO}_3}{1 \text{ mol HCl}} \times \frac{84 \text{ g NaHCO}_3}{1 \text{ mol NaHCO}_3}$$

$$\times \frac{1000 \text{ mg NaHCO}_3}{1 \text{ g NaHCO}_3} = 1176 \text{ mg NaHCO}_3$$

$$\frac{0/14}{1} = \frac{x \times 10^{-3}}{1 \times 84} \Rightarrow x = 1176 \text{ mg NaHCO}_3 \quad \text{راه دوم:}$$

(شیمی ۳ - صفحه‌های ۲۴ تا ۳۲)

۱۱۰ - گزینه «۳»

(امیرمسین طیبی)

می‌دانیم گل ادریسی در خاک‌های با pH بازی به رنگ سرخ شکوفا

می‌شود. در نتیجه محلول نهایی بازی است.

شمار مول یون‌ها در محلول اسید اولیه:

$$\text{pH} = 0/7 \Rightarrow [\text{H}^+] = 10^{-0/7} = 10^{-1} \times 10^{0/7} = 0/2 \text{ mol.L}^{-1}$$

$$[\text{H}^+] = [\text{Cl}^-] = 0/2 \text{ mol.L}^{-1} \Rightarrow \text{mol H}^+ = \text{mol Cl}^-$$

$$= 0/2 \times \frac{1}{2} = 0/1$$

شمار مول یون‌ها در محلول باز اولیه:

$$\text{pH} = 13/5 \Rightarrow [\text{H}^+] = 10^{-13/5} \text{ mol.L}^{-1}$$

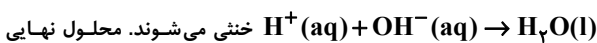
$$\xrightarrow{[\text{H}^+][\text{OH}^-] = 10^{-14}} [\text{OH}^-] = 10^{-0/5} \text{ mol.L}^{-1}$$

$$\Rightarrow [\text{OH}^-] = 10^{-0/5} = 10^{-1} \times 10^{0/5} = 0/3 \text{ mol.L}^{-1}$$

$$[\text{OH}^-] = [\text{Na}^+] = 0/3 \text{ mol.L}^{-1} \Rightarrow \text{mol OH}^- = \text{mol Na}^+$$

$$= 0/3 \times V \times 10^{-3} \text{ mol}$$

می‌دانیم که اسیدها و بازهای قوی در مخلوط شدن با همدیگر طبق واکنش



محلول نهایی خنثی می‌شوند. محلول نهایی

خاصیت بازی دارد در نتیجه $\text{mol OH}^- > \text{mol H}^+$ می‌باشد.

$$\left. \begin{aligned} \text{mol OH}^- &= \left(\frac{3}{10} \times V \times 10^{-3} \right) - \frac{1}{10} \\ \text{mol Na}^+ &= \frac{3}{10} \times V \times 10^{-3} \\ \text{mol Cl}^- &= \frac{1}{10} \end{aligned} \right\}$$

$$\text{مجموع مول تمام یون‌ها} = \frac{6}{10} \times V \times 10^{-3} \text{ mol}$$

$$\text{مجموع مول یون‌ها} = \frac{\text{مجموع غلظت یون‌ها}}{\text{حجم نهایی}}$$

$$\Rightarrow \frac{\frac{6}{10} \times V \times 10^{-3}}{(\frac{500}{10} + V) \times 10^{-3}} = \frac{0/6V}{500 + V} = 0/36$$

$$180 + 0/36V = 0/6V \Rightarrow 180 = 0/24V \Rightarrow V = 750 \text{ mL}$$

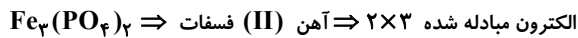
(شیمی ۳ - صفحه‌های ۳۳ تا ۳۶)

(امیرعلی بیات)


۱۱۴- گزینه «۴»

اطلاعات صحیح هر ردیف:

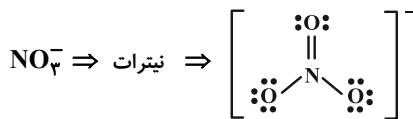
(۱) (۲ غلط)



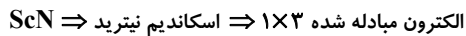
(۲) (۲ غلط)



(۳) (۱ غلط)



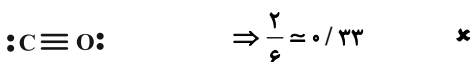
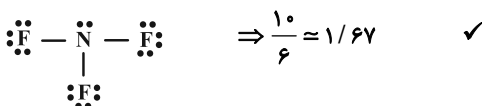
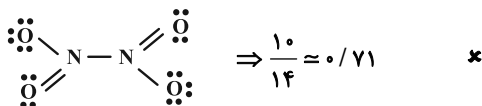
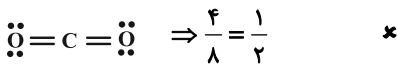
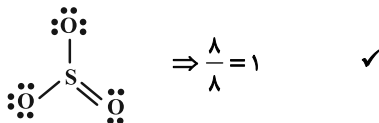
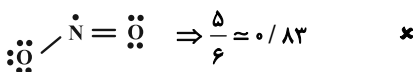
(۴) (بدون غلط)



(شیمی ۱- صفحه‌های ۵۳ تا ۵۶)

(ممسس مینونی)

۱۱۵- گزینه «۳»



با توجه به ساختار لوویس مولکول‌ها گزینه «۳» صحیح است.

(شیمی ۱- صفحه‌های ۵۳ تا ۵۶)

شیمی ۱

۱۱۱- گزینه «۲»

(ممید زبئی)

عبارت‌های «پ» و «ت» درست هستند.

بررسی عبارت‌ها:

الف) اغلب گازها نامرئی بوده و به‌طور معمول وجود آن‌ها را در اطراف خود حس نمی‌کنیم.

ب) تغییرات دما در هواکره دلیلی بر لایه‌ای بودن آن است (نه تغییرات فشار)

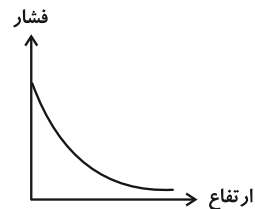
پ) $273 + 12 = 285 \text{ K}$ دما در ابتدای تروپوسفر برحسب کلونینت) $-60 \text{ K} = -6 \times 10$: تغییرات دما تا ارتفاع ۱۰ کیلومتری

$$\text{درصد تغییرات دما} = \frac{-60}{285} \times 100 \Rightarrow -21\%$$

ت) طبق شکل صفحه ۴۷ کتاب درسی و نمودار زیر، با توجه به کاهش شیب

نمودار با افزایش ارتفاع نتیجه می‌گیریم تغییرات فشار همانند فشار، با

افزایش ارتفاع کاهش می‌یابد.



(شیمی ۱- صفحه‌های ۴۶ تا ۴۸ و ۵۲)

(امیرمسین طیبی)

۱۱۲- گزینه «۴»

منابع زمینی هلیوم از هواکره سرشارتر و برای تولید هلیوم در مقیاس صنعتی مناسب‌ترند.

بررسی سایر گزینه‌ها:

(۱) گاز CO_2 توسط جانوران تولید می‌شود.(۲) گاز N_2 در ساختار خود پیوند سه‌گانه دارد. $\text{:N} \equiv \text{N} \text{:}$ (۳) گاز Ar در تولید لامپ‌های رشته‌ای مورد استفاده قرار می‌گیرد.

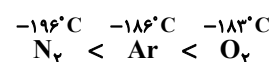
(شیمی ۱- صفحه‌های ۴۸ تا ۵۱)

(ممر عظیمیان زواره)

۱۱۳- گزینه «۱»

بررسی عبارت‌های نادرست:

ب) در شرایط یکسان، نقطه جوش گازها به صورت زیر است:



ت) هلیوم نمی‌سوزد و به صورت آزاد همراه محصولات حاصل از سوختن خارج می‌شود.

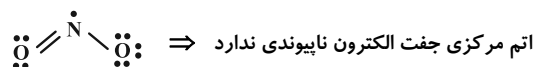
(شیمی ۱- صفحه‌های ۴۸ تا ۵۱)



۱۱۶- گزینه «۲»

(یاسر راش)

بررسی گزینه‌ها:

(۱) منظور نیتروژن است. ساختار لوویس NO_2 به صورت زیر است:(۲) منظور گوگرد است که دارای دو نوع اکسید (SO_2 و SO_3) است. SO_2 به همراه اکسیدهای نیتروژن (NO_x)، در نهایت باعث ایجاد باران

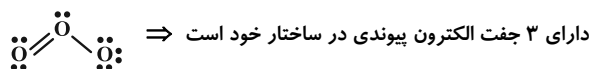
اسیدی می‌شوند.

(۳) منظور کربن است که میزان اکسید آن یعنی CO_2 در سده اخیر در

هواکره به میزان قابل توجهی افزایش داشته است.

(۴) منظور اکسیژن است. مولکول مورد نظر O_3 خواهد بود که ساختار

لوویس آن به صورت زیر است:



(شیمی ۱- صفحه‌های ۵۳ تا ۵۶)

۱۱۷- گزینه «۳»

(آرمان قنوتی)

بررسی گزینه‌های نادرست:

(۱) این گزینه در صورتی صحیح است که ظرف واکنش سر باز نباشد.

(۲) نماد « $\xrightarrow{\Delta}$ » برای شروع واکنش باید مخلوط واکنش دهنده‌ها گرم

شوند.

(۳) واکنش شیمیایی را می‌توان تغییر شیوه اتصال اتم‌ها به یکدیگر در نظر

گرفت چرا که عناصر طی واکنش تغییر نمی‌کنند و صرفاً شیوه اتصال آن‌ها به

هم تغییر می‌کند.

(۴) هدف از موازنه واکنش‌ها برابر شدن جرم (یا تعداد اتم‌ها) در دو طرف

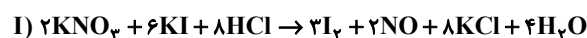
واکنش است.

(شیمی ۱- صفحه‌های ۶۱ تا ۶۴)

۱۱۸- گزینه «۴»

(سعیر تیزرو)

واکنش‌های موازنه شده به صورت زیر هستند:



براساس واکنش‌های موازنه شده، ضریب هر سه گونه در واکنش (I) بیشتر

از واکنش (II) است.

نکته: با توجه به موازنه عنصر Cl، ضرایب HCl و KCl در هر واکنش

با هم برابر است. در نتیجه اگر ضریب HCl در واکنش (I) بیشتر یا

کمتر از واکنش (II) باشد، ضریب KCl هم به همان صورت است. در

نتیجه تنها گزینه «۴» می‌تواند پاسخ سؤال باشد.

(شیمی ۱- صفحه‌های ۶۲ تا ۶۴)

۱۱۹- گزینه «۱»

(فرشید مراری)

تمام عبارت‌ها نادرست هستند.

بررسی عبارت‌ها:

(الف) بخار آب آلاینده هواکره محسوب نمی‌شود.

(ب) استفاده از سشوار به عنوان منبع مصرف‌کننده جریان برق روی مقدار

 CO_2 تولیدی نقش داشته و باعث افزایش گرمای جهانی می‌شود.

(پ) استفاده از گاز طبیعی به جای نفت خام برخلاف استفاده از انرژی

خورشید به جای گرمای زمین، مقدار CO_2 تولیدی را کاهش می‌دهد.(ت) رابطه افزایش مقدار CO_2 با میانگین جهانی دمای سطح کره زمین

مستقیم، اما رابطه مساحت سطح برف در نیم کره شمالی با میانگین جهانی

سطح آب‌های آزاد معکوس است.

(شیمی ۱- صفحه‌های ۶۴ تا ۶۷)

۱۲۰- گزینه «۲»

(مهمرضا جمشیری)

عبارت‌های (ب)، (پ) و (ت) نادرست هستند.

بررسی عبارت‌های نادرست:

(ب) اگر لایه هواکره وجود نداشت، میانگین دمای کره زمین به 18°C -

کاهش می‌یافت.

(پ) بخش عمده‌ای از پرتوهای تابیده شده از سمت خورشید به وسیله زمین

جذب می‌شود.

(ت) انرژی پرتوهای بازتابیده از زمین نسبت به پرتوهای تابیده شده از سمت

خورشید، کمتر است و در نتیجه طول موج بیشتری دارد.

(شیمی ۱- صفحه‌های ۶۸ و ۶۹)



شیمی ۲

گزینه ۳»

(ممد عظیمیان زواره)

بیشترین اختلاف میان سرانه مصرف مواد غذایی در ایران و جهان مربوط به شیر می باشد.

(شیمی ۲- صفحه های ۵۳ تا ۵۷)

گزینه ۲»

(امیر شامیان)

عبارت های (ب) و (پ) نادرست هستند.

بررسی عبارت ها:

(الف) نان و سیب زمینی هر دو تقریباً از نشاسته تشکیل شده و سرعت هم دما شدن آن ها با محیط به میزان آب موجود در آن ها بستگی دارد و از آنجایی که مقدار آب در نان کمتر از سیب زمینی است بنابراین تکه نان زودتر با محیط هم دما می شود.

(ب) خوردن بستنی و آزاد شدن انرژی از آن در طی دو مرحله اتفاق می افتد. فرایند اول، فرایند هم دما شدن بستنی با بدن بوده که فرایندی گرماگیر است؛ سپس بستنی هم دما شده در طی یک فرایند گرماده با آزاد کردن انرژی، تبدیل به فرآورده های حاصل از گوارش بستنی می شود.

(پ) گرما هم ارز با آن مقدار انرژی گرمایی است که به دلیل تفاوت در دما جاری می شود.

(ت) از میان دو جسم مختلف با جرم یکسان، به ازای دادن گرمای یکسان به آن ها، آن ماده ای که ظرفیت گرمایی ویژه بیشتری دارد، افزایش دمای کمتری پیدا می کند.

$$Q = mc\Delta\theta \Rightarrow \uparrow c = \frac{Q}{m\Delta\theta \downarrow}$$

(شیمی ۲- صفحه های ۵۳ و ۵۶ تا ۶۱)

گزینه ۲»

(آرمان قنواتی)

بررسی موارد نادرست:

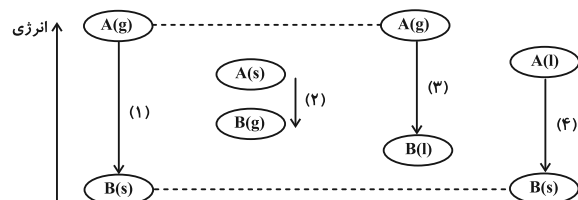
(الف) شیمی دان ها گرمای جذب شده یا آزاد شده در هر واکنش شیمیایی را به طور عمده (نه کاملاً) وابسته به تفاوت میان انرژی پتانسیل مواد واکنش دهنده و فرآورده می دانند.

(ت) گرما از ویژگی های یک نمونه ماده نیست و نباید برای توصیف آن به کار رود. (شیمی ۲- صفحه های ۵۷، ۵۸، ۶۲ و ۶۳)

گزینه ۱»

(هدی بهاری پور)

با توجه به مشابه بودن حالت فیزیکی X در گزینه ها نتیجه به وضعیت A و B بستگی دارد.

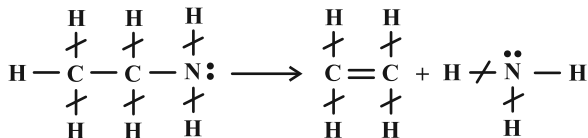


با توجه به نمودار، انرژی آزاد شده در واکنش گزینه ۱» بیشترین مقدار است.

(شیمی ۲- صفحه های ۶۲ تا ۶۴)

گزینه ۲»

(ممد رضا طاهری نژاد)



ابتدا ۴ پیوند C-H و ۲ پیوند N-H که در دو طرف واکنش تکرار شده اند را ساده می کنیم.

$$\Delta H_{\text{واکنش}} = \left[\text{مجموع آنتالپی پیوندها} \right] - \left[\text{مجموع آنتالپی پیوندها} \right]$$

در مواد فراورده در مواد واکنش دهنده

$$\Rightarrow 45 = (\Delta H(\text{C}-\text{H}) + \Delta H(\text{C}-\text{C}) + \Delta H(\text{C}-\text{N}))$$

$$\rightarrow -(\Delta H(\text{C}=\text{C}) + \Delta H(\text{N}-\text{H})) - \frac{1}{4}\Delta H(\text{C}-\text{N}) = \Delta H(\text{N}-\text{H})$$

$$45 = (415 + 348 + \frac{\Delta H(\text{N}-\text{H})}{1/4}) - (614 + \Delta H(\text{N}-\text{H}))$$

$$\Rightarrow \Delta H(\text{N}-\text{H}) = 364 \text{ kJ} \cdot \text{mol}^{-1}$$

(شیمی ۲- صفحه های ۶۷ تا ۶۹)

گزینه ۲»

(امیر علی بیات)

مورد سوم و چهارم نادرست هستند.

بررسی هر یک از موارد:

(الف) در ساختار این مولکول حلقه بنزن دیده می شود که همانند ضد بید (نفتالن) جزو دسته آروماتیک به حساب می آیند.

(ب) در ساختار این مولکول گروه های عاملی آمین، اسید و ... حضور دارد که می توانند به صورت درون مولکولی با هم پیوند هیدروژنی تشکیل دهند. همچنین این مولکول می تواند با مولکول های آب نیز پیوند هیدروژنی تشکیل دهد.

(پ) مولکول کلسترول دارای گروه عاملی هیدروکسیل (-OH) می باشد.

(ت) این مولکول شامل ۳ پیوند دوگانه C=C می باشد پس در شرایط STP با ۶۷/۲ لیتر H_۲ سیر می شود.

$$3 \text{ mol} \times \frac{1 \text{ mol H}_2}{1 \text{ mol دوگانه}} \times \frac{22.4 \text{ L H}_2}{1 \text{ mol H}_2} = 67.2 \text{ L H}_2$$

(شیمی ۲- صفحه های ۷۰ تا ۷۲)

گزینه ۳»

(ممد رضا پورباویر)

اگر درصد جرمی کربوهیدرات، چربی و پروتئین موجود در این ماده غذایی را به ترتیب X، Y و Z در نظر بگیرید، با توجه به این که ۱۰٪ از این ماده غذایی شامل مواد دیگری است، می توان گفت:

$$x + y + z = 90$$

از طرفی طبق اطلاعات داده شده در صورت مسئله Z = 3Y خواهد بود.

ضمن آن که با توجه به رابطه تعیین ارزش سوختی مواد غذایی خواهیم داشت:

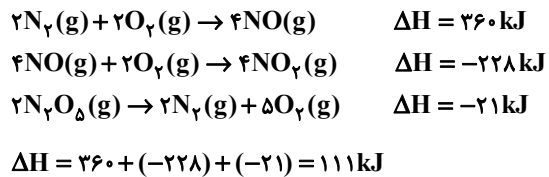


۱۲۹- گزینه «ا»

(امیرمسین طبی)



برای به دست آوردن ΔH واکنش داده شده باید واکنش اول و دوم را قرینه و ۲ برابر کنیم و واکنش سوم را فقط قرینه کنیم.



$2N_2O_5 \rightarrow 4NO_2 + O_2$	۰	۰	۰
مقادیر اولیه :	۰/۵	۰	۰
تغییرات :	-۲x	+۴x	+x
مقادیر نهایی :	۰/۵-۲x	۴x	x

\Rightarrow $\frac{\text{شمار مول‌های گازی نهایی}}{\text{شمار مول‌های گازی اولیه}} = \frac{0/5 - 2x + 4x + x}{0/5} = 2$

$\Rightarrow x = \frac{1}{6} \Rightarrow Q = 2 \times \frac{1}{6} \text{ mol } N_2O_5$ مصرف شده

$\times \frac{111 \text{ kJ}}{2 \text{ mol } N_2O_5} = 18/5 \text{ kJ}$ انرژی مصرف شده

(شیمی ۲- صفحه‌های ۷۴ تا ۷۷)

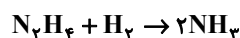
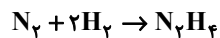
۱۳۰- گزینه «ا»

(امیرعلی بیات)

همه موارد درست هستند.

بررسی برخی از موارد:

واکنش‌های انجام شده به صورت زیر می‌باشند:



- مورد سوم: علامت ΔH تشکیل هیدرازین (+) است و علامت ΔH سوختن (-) پس این عبارت صحیح است.

- مورد چهارم: مولکول N_2H_4 به دلیل این که سطح انرژی بالاتری دارد، ناپایدارتر است.

- مورد پنجم: مطابق واکنش‌های نوشته شده N_2H_4 در یک واکنش تولید و در واکنش دیگری مصرف می‌شود.

(شیمی ۲- صفحه‌های ۷۴ تا ۷۷)

= ارزش سوختی ماده غذایی

$$\left(\frac{x}{100} \text{ g} \times 17 \frac{\text{kJ}}{\text{g}}\right) + \left(\frac{y}{100} \text{ g} \times 38 \frac{\text{kJ}}{\text{g}}\right) + \left(\frac{z}{100} \text{ g} \times 17 \frac{\text{kJ}}{\text{g}}\right) = 16/35 \frac{\text{kJ}}{\text{g}}$$

$$\Rightarrow 1635 = 17x + 38y + 17z$$

به این ترتیب برای تعیین مقادیر x, y و z باید دستگاه سه معادله سه مجهولی زیر را حل کنیم:

$$\begin{cases} 17x + 38y + 17z = 1635 & z=3y \\ 17x + 38y + 17(3y) = 1635 & \Rightarrow 17x + 89y = 1635 \\ x + y + z = 90 & z=3y \Rightarrow x + 4y = 90 \end{cases}$$

با توجه به دو معادله جدید به دست آمده می‌توان گفت:

$$\begin{cases} 17x + 89y = 1635 \\ x + 4y = 90 \end{cases} \Rightarrow \begin{cases} 17x + 89y = 1635 \\ -17x - 68y = -1530 \end{cases}$$

$$21y = 105 \Rightarrow y = 5\%$$

حال می‌توان درصد جرمی پروتئین و کربوهیدرات موجود در این ماده غذایی را نیز به دست آورد:

$z = 3y = 3 \times 5 = 15\%$

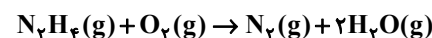
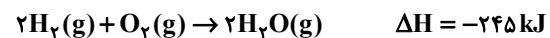
$x + y + z = 90 \Rightarrow x + 5 + 15 = 90 \Rightarrow x = 70\%$

(شیمی ۲- صفحه‌های ۷۲ تا ۷۴)

۱۲۸- گزینه «ا»

(ممنون مینونی)

ابتدا باید با استفاده از واکنش‌های داده شده، آنتالپی واکنش مدنظر را به دست آوریم. بر این اساس با توجه به ترکیب‌های H_2O و N_2H_4 ، واکنش‌های ۱ و ۲ را تغییر نمی‌دهیم. واکنش ۳ را هم قرینه می‌کنیم تا گاز N_2 را هم در واکنش داده شده ایجاد کنیم:



$\Delta H = -245 - 190 + 90 = -345 \text{ kJ}$

به ازای تولید ۶۴ گرم فراورده $(28 + 2 \times 18)$ ، 345 kJ گرما آزاد شده است. پس با یک تناسب ساده می‌توان جرم فراورده تولید شده به ازای آزاد شدن 1380 kJ گرما را به دست آورد:

$\frac{64 \text{ g فراورده}}{x \text{ g فراورده}} = \frac{345 \text{ kJ}}{1380 \text{ kJ}} \Rightarrow x = 256 \text{ g}$

(شیمی ۲- صفحه‌های ۷۴ تا ۷۷)



دفترچه پاسخ

آزمون هوش و استعداد
(دوره دوم)
۱۸ آبان

تعداد کل سوالات آزمون: ۲۰
زمان پاسخ‌گویی: ۳۰ دقیقه

گروه فنی تولید

حمید لنجان‌زاده اصفهانی	مسئول آزمون
فاطمه راسخ، حمیدرضا رحیم خانلو	ویراستار
محیا اصغری	مدیر گروه مستندسازی
علیرضا همایون‌خواه	مسئول درس مستندسازی
حمید اصفهانی، فاطمه راسخ، سجاد محمدنژاد، حمید گنجی، فرزاد شیرمحمدلی، کیارش صانعی، حلما حاجی نقی	طراحان
معصومه روحانیان	حروف‌چینی و صفحه‌آرایی
حمید عباسی	ناظر چاپ

استعداد تحلیلی

۲۵۱- گزینه ۲»

(ممد اصفوانی)

در تصویر، فردی ثروتمند به همان اندازه به پول می‌اندیشد که فردی فقیر. این یعنی پول - برای شخص طماع - هرگز کافی نیست. تصویر به نوعی انتقادی است از جایگاه پول در جوامع امروزی، که از ابزار به هدف تبدیل شده است.

(هوش کلامی)

۲۵۲- گزینه ۳»

(ممد اصفوانی)

شکل درست متن:

ج) چنین به نظر می‌رسد که پس از جدایی اولیه‌ی زبان‌های ایرانی از زبان‌های هندواروپایی شرقی، نیاز به یک تفکیک دوباره‌ی زبانی نزد ایرانیان حس شده است.

الف) حکومت ایران در آن زمان، هخامنشیان، زبان فارسی را برای این منظور به عنوان وسیله‌ای برگزیدند که قبایل مختلف ایرانی را متحد کنند.

ب) زبان فارسی به‌خوبی به هدفی که برای آن تعریف شده بود رسید و باعث اتحاد قبایل ساکن در فلات ایران شد.

د) امروزه برخی دسته‌ها و گروه‌های ایرانی تصور می‌کنند انتخاب زبان فارسی به عنوان زبان مرکزی عامل ضعف زبان‌های ایشان شده است.

ه) حال آن که اگر زبان فارسی را نه به عنوان جایگزین بلکه به عنوان ابزاری برای تقویت روابط زبانی در نظر بگیریم، نادرستی این استدلال آشکار می‌شود.

(هوش کلامی)

۲۵۳- گزینه ۱»

(ممد اصفوانی)

شکل درست متن:

الف) شنیدم که شاهی به هندوستان / برافروخت بزم از رخ دوستان

د) چو طوطی به هر نکته گویا شدند / به نادر خبرها شکر خا شدند

ب) یکی گفت کاندر دیار عرب / یکی جانور دیده‌ام بس عجب

ج) شترپیکری رسته زو بال و پر / ولیکن نه پرنده نی باربر

(هوش کلامی)

۲۵۴- گزینه ۱»

(کنکور کارشناسی ارشد زبان و ادبیات فارسی)

در بیت صورت سؤال، شاعر می‌گوید درست است که عیب، بهتر است پنهانی باشد نه آشکار، اما اگر دوست همچون آیینه باشد و عیب دوست را به او گوشزد کند، بهتر است. این یعنی عیب را نباید از دوست نپنهان داشت.

(هوش کلامی)

۲۵۵- گزینه ۴»

(کنکور کارشناسی ارشد زبان و ادبیات فارسی)

در بیت صورت سؤال، «خدایی» یعنی «یک خدا». دقت کنید گزینه‌های «۱»، «۲» و «۳» همگی از واژه‌ها و عبارات «کنه»، «حقیقت» و «ذات» استفاده کرده‌اند که در صورت سؤال نیست، بیت تنها به «هستی» خداوند اشاره می‌کند و نه چیستی او. «اگر خدا او را راهنمایی نمی‌کرد، کی به وجود خدا آگاه می‌شد؟»

(هوش کلامی)

۲۵۶- گزینه ۳»

(کتاب استعداد تحلیلی هوش کلامی)

استدلال کمیته انضباطی در متن صورت سؤال ناقص است، چرا که تعداد و مبلغ جریمه‌ها به شرطی تعیین کننده است که میزان خطاها یکسان بوده باشد. عبارت گزینه ۳» به خوبی این موضوع را آشکار می‌کند: اگر مبالغ جریمه‌ها با میزان ناشایست بودن رفتارها متناسب نبوده باشد، مبالغ جریمه‌ها تعیین کننده عدالت یا بی‌عدالتی کمیته انضباطی نیست.

(هوش کلامی)

۲۵۷- گزینه ۳»

(کتاب استعداد تحلیلی هوش کلامی)

اگر قیمت کالایی ۱۰۰۰ تومنی را بیست درصد افزایش دهیم، می‌شود ۱۲۰۰ تومن. اگر قیمت کالایی ۲۰۰۰ تومنی را ده درصد افزایش دهیم، می‌شود ۲۲۰۰ تومن. همچنان قیمت کالای دوم بیشتر است، هرچند درصد افزایش قیمت آن کمتر بوده است. استدلال صورت سؤال نادرست است چون بیشتر بودن تعداد هواداران اولیه فوتبال از والیبال را در نظر نگرفته است.

(هوش کلامی)

۲۵۸- گزینه ۳»

(ملما عابن تقی)

در آن عددهای سه رقمی (□○Δ) که صورت سؤال وصف می‌کند، رابطه

$$-1 = \frac{\square + \Delta}{2} = \bigcirc$$

برقرار است. پس حاصل $\square + \Delta$ باید زوج باشد تا

$$\frac{\square + \Delta}{2}$$

حاصل عدد طبیعی باشد. در ثانی، باید عددی حاصل شود که اگر

آن را در خودش ضرب کنیم، یکان آن دو واحد بیش‌تر شود. همه ده رقم را برای یکان امتحان می‌کنیم:

یکان فرضی عدد فعلی	۰	۱	۲	۳	۴	۵	۶	۷	۸	۹
یکان فرضی عدد نهایی	۰	۱	۴	۹	۶	۵	۶	۹	۴	۱

که تنها در سه حالت این اتفاق ممکن است رخ دهد. حال با توجه به مقدمه بالا می‌توانیم اعداد را حدس بزنیم:

$$\Delta = 2 \Rightarrow \frac{\square + 2}{2} = \bigcirc - 1 \Rightarrow \square = 2 \bigcirc - 4 \Rightarrow$$

$$\{ \bigcirc = 4, \square = 4 \}, \{ \bigcirc = 3, \square = 2 \} : \text{حالات‌های ممکن}$$

$$\Rightarrow 1010 \circ^2 + 201 \circ \square + 10 \square^2 = 1010 \circ + 101 \square$$

اگر سمت راست تساوی بزرگ‌ترین مقدار خود را داشته باشد، یعنی $\circ = 9$ و $\square = 8$ باشد، حاصل آن ۹۸۹۸ خواهد بود. این در حالی است که عبارت $1010 \circ^2$ در سمت چپ حتی به ازای $\circ^2 = 9$ برابر 9090 خواهد بود که عددی بسیار بزرگ‌تر از عبارت سمت راست خواهد شد. این یعنی \circ را کمینه می‌گیریم و \square را حدس می‌زنیم. \circ نمی‌تواند صفر باشد. پس $\circ = 1$ را می‌آزماییم:

$$1010 + 201 \square + 10 \square^2 = 1010 + 10 \square$$

که تنها به ازای $\square = 0$ صحیح است: $10 \square^2 = -191 \square$
پس عبارت‌ها به شکل زیر است:

۱۰۱

$\times 10$

۱۰۱۰

و حاصل $\circ \square \square \times \circ \square \square$ ، برابر حاصل $10 \times 10 = 100$ یعنی $\circ \square \square$ خواهد بود.

(هوش منطقی ریاضی)

(فرزاد شیرمحمدی)

۲۶۱- گزینه «۱»

تعداد صفرهای سمت راست عدد حاصل برابر است با تعداد دفعاتی که می‌توان عدد را بر عدد ۱۰ تقسیم کرد و همچنان یک عدد درست طبیعی به دست می‌آید. به عبارت دیگر، تعداد 2×5 هاست که تعیین‌کننده است. در عبارت صورت سؤال، تنها عدد ۵۵۵۵۵ است که عامل اول ۵ دارد، آن هم یکی، پس یک رقم صفر در سمت راست عدد حاصل وجود دارد.

(هوش منطقی ریاضی)

(فاطمه اسخ)

۲۶۲- گزینه «۴»

نه ماه دقیق خرید تلویزیون معلوم است و نه ماه تولد خریدار و نه ماه تولد فروشنده. در واقع با این داده‌ها می‌توانیم هر ماهی را پاسخ بدانیم.

(هوش ریاضی)

(فاطمه اسخ)

۲۶۳- گزینه «۳»

با داده «الف» به تنهایی نمی‌توان به پاسخ رسید، چرا که ترتیب زیر ممکن است: دختر - پسر - دختر - پسر - پسر - دختر - دختر - پسر - دختر - پسر

با داده «ب» نیز به تنهایی نمی‌توان به پاسخ رسید، ترتیب زیر را در نظر بگیرد.

امیر - ندا - هما - امین

امیر - امین - ندا - هما

اما اگر هر دو داده را داشته باشیم، فقط یک حالت ممکن است که در آن فرزند دوم پسر نیست: امیر - ندا - امین - هما

(هوش منطقی ریاضی)

$$\{\circ = 5, \square = 6\}, \{\circ = 6, \square = 8\}$$

$$\Delta = 4 \Rightarrow \frac{\square + 4}{2} = \circ - 1 \Rightarrow \square = 2\circ - 6 \Rightarrow$$

حالت‌های ممکن: $\{\circ = 4, \square = 2\}, \{\circ = 5, \square = 4\}$

$$\{\circ = 6, \square = 6\}, \{\circ = 7, \square = 8\}$$

$$\Delta = 7 \Rightarrow \frac{\square + 7}{2} = \circ - 1 \Rightarrow \square = 2\circ - 9 \Rightarrow$$

حالت‌های ممکن: $\{\circ = 5, \square = 1\}, \{\circ = 6, \square = 3\}$

$$\{\circ = 7, \square = 5\}, \{\circ = 8, \square = 7\}, \{\circ = 9, \square = 9\}$$

پس عددهای ممکن عبارتند از:

$$\{232, 442, 652, 862, 244, 454, 664, 874, 157, 367, 577, 787, 997\}$$

(هوش منطقی ریاضی)

(کیارش صانعی)

۲۵۹- گزینه «۲»

تعداد روزهای هر سال و تعداد کل روزهای عمر هر شخص را محاسبه می‌کنیم:

روزهای عمر شخص تا پایان سال	تعداد ماه‌ها ضرب در تعداد روزهای هر ماه	سال
۱	$1 \times 1 = 1$	۱
$1 + 4 = 5$	$2 \times 2 = 4$	۲
$5 + 9 = 14$	$3 \times 3 = 9$	۳
$14 + 16 = 30$	$4 \times 4 = 16$	۴
$30 + 25 = 55$	$5 \times 5 = 25$	۵
$55 + 36 = 91$	$6 \times 6 = 36$	۶
$91 + 49 = 140$	$7 \times 7 = 49$	۷

پس معلوم است که شخصی که ۱۲۰ روز دارد، در هفتمین سال زندگی‌اش است، چرا که $140 > 120$ است.

بنابراین از عمر این شخص، ۹۱ روز در ۶ سال سپری شده است و $120 - 91 = 29$ روز در سال هفتم، در سال هفتم، هر ماه ۷ روز دارد، پس این فرد طبق تقسیم $1 + (7 \times 4) = 29$ چهار ماه و یک روز در سال هفتم زندگی خود زیسته است.

(هوش منطقی ریاضی)

(فاطمه اسخ)

۲۶۰- گزینه «۲»

برای درست بودن عبارت صورت سؤال داریم:


$$(100 \circ + 10 \square + \circ) \times (10 \circ + \square) = 1000 \circ + 100 \square + 10 \circ + \square$$

$$\Rightarrow 1000 \circ^2 + 100 \circ \square + 10 \circ \square + 10 \square^2$$

$$+ 10 \circ^2 + \circ \square = 1010 \circ + 101 \square$$

با ادامه این الگو، تعداد مستطیل‌ها معلوم می‌شود:

$$11 + 7 + 6 + 5 + 4 + 3 + 2 + 1 = 39$$

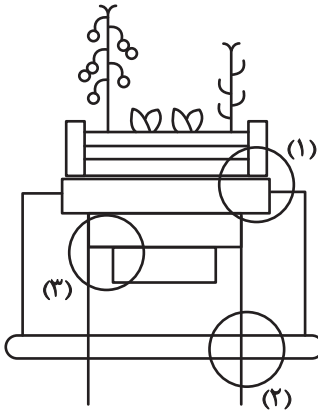


(هوش غیرکلامی)

(سیار ممبرنزار)

۲۶۹- گزینه «۴»

قسمت‌های مشخص شده:




(هوش غیرکلامی)

(ممیدکنی)

۲۷۰- گزینه «۳»

قسمت‌های مشخص شده:



(هوش غیرکلامی)

(فاطمه اسخ)

۲۶۴- گزینه «۴»

با داده «الف» داریم:

$$2\Box + \bigcirc \geq 2\bigcirc + \Box \Rightarrow \Box \geq \bigcirc$$

که معلوم نیست $\Box = \bigcirc$ است یا $\Box > \bigcirc$

با داده «ب» نیز هیچ قیاسی بین \Box و \bigcirc نداریم، پس پاسخ گزینه «۴» است.

(هوش منطقی ریاضی)

(فاطمه اسخ)

۲۶۵- گزینه «۲»

از طریق یکان می‌توان به راحتی به پاسخ رسید:

$$\text{گزینه «۱»}: 1723 \times 1345 + 8745 - 2 \Rightarrow 3 \times 5 + 5 - 2 \Rightarrow 5 + 3 = 8$$

$$\text{گزینه «۲»}: 1231 + 234 \times 9872 - 20 \Rightarrow 1 + 4 \times 2 - 0 \Rightarrow 1 + 8 = 9$$

$$\text{گزینه «۳»}: 26798 + 3999 \times 573 - 45 \Rightarrow 8 + 9 \times 5 - 5 \Rightarrow 8 + 0 = 8$$

$$\text{گزینه «۴»}: 9898 \times 235 + 246 - 98 \Rightarrow 8 \times 5 + 6 - 8 \Rightarrow 46 - 8 \Rightarrow 8$$

(هوش منطقی ریاضی)

(فاطمه اسخ)

۲۶۶- گزینه «۴»

واضح است که کدهای C در شکل‌هایی است که پاره‌خطی اضافه دارند و کدهای B در شکل‌هایی است که پاره‌خط اضافه ندارند. همچنین A کد شکل‌هایی است که تعداد نقطه‌های دایره‌ای آن‌ها برابر است، D کد شکل‌هایی که دایره سمت راست آن‌ها بیش‌تر از دایره سمت چپ دارد و E شکل‌هایی که دایره سمت چپ آن‌ها نقاط بیش‌تری نسبت به دایره سمت راست دارد.

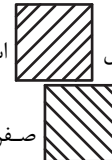


(هوش غیرکلامی)

(غریزاد شیرممدلی)

۲۶۷- گزینه «۴»

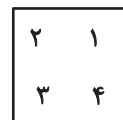
در دو شکل صورت سؤال، هاشورها به شکل



«صفر» دارند. هاشورهای دیگر به شکل



صفر ندارند. همچنین تفاوت دیگر شکل‌ها در جایگاه هاشور خورده است:



(هوش غیرکلامی)

(فاطمه اسخ)

۲۶۸- گزینه «۴»

یازده مستطیل در نگاه اول در شکل هست، اما از ترکیب مستطیل‌ها نباید غافل شد:

هفت تا $\rightarrow (1,2), (1,2,3), \dots, (1,2,3,\dots,8)$

شش تا $\rightarrow (2,3), (2,3,4), \dots, (2,3,4,8)$

⋮